



OBJETIVO

UNIDADE

NOME COMPLETO

2009

SIMULADO ENEM

Ciências Humanas e suas Tecnologias

RESOLUÇÃO
COMENTADA

INSTRUÇÕES PARA A REALIZAÇÃO DA PROVA LEIA COM ATENÇÃO

Esta prova contém 45 questões, cada uma com 5 alternativas, das quais somente uma é correta. Assinale, no cartão de respostas, a alternativa que você julgar correta.

Será anulada a questão em que for assinalada mais de uma alternativa ou que estiver totalmente em branco. Assinale apenas uma alternativa para cada questão.

Assinale a resposta preenchendo totalmente, a lápis, o respectivo alvéolo, com o cuidado de não ultrapassar o espaço delimitado. Não assinale as respostas com um "X", pois esta sinalização não será considerada.

Ao receber o cartão de respostas, preencha cuidadosamente o verso com os dados solicitados.

Não rasure nem amasse a folha de respostas. Não escreva nada no cartão de respostas fora do campo reservado.

EXEMPLO DE PREENCHIMENTO

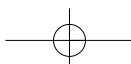
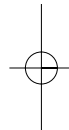
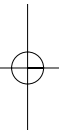
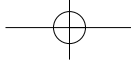
1	A		C	D	E
2	A	B		D	E
3		B	C	D	E
4		B	C	D	E
5	A	B		D	E
6	A	B	C		E
7	A		C	D	E
8	A	B	C		E
9	A		C	D	E
10	A	B	C		E
11		B	C	D	E
12	A	B	C	D	
13	A	B	C		E
14	A		C	D	E
15	A	B	C	D	

A duração da prova é de 2 horas e 15 minutos, não havendo tempo suplementar para marcar as respostas.

É terminantemente proibido retirar-se do local da prova antes de decorrida 1 hora e 30 minutos após o início, qualquer que seja o motivo.

A qualquer dúvida, levante a mão e pergunte ao fiscal de sala.

Boa prova!





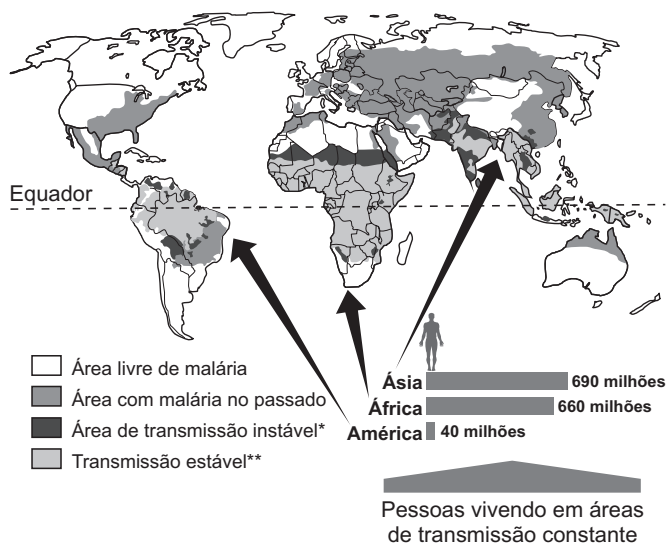
Ciências Humanas e suas Tecnologias



Questão 1

Recentemente pesquisadores da Universidade de Oxford e do Instituto Queniano de Pesquisa Médica elaboraram um Atlas da Malária, do qual se obteve o seguinte cartograma:

ÁREAS DE TRANSMISSÃO DA MALÁRIA



(Folha de S. Paulo, 26/4/2009)

Observando-se a ilustração, é possível afirmar:

- I. A doença apresenta uma área de transmissão estável predominantemente nas regiões inter-tropicais, onde o ambiente quente facilita a sobrevivência do mosquito transmissor.
- II. Não houve nem há a possibilidade de a doença se espalhar por regiões temperadas, nem no presente, nem no passado.
- III. A maior incidência da doença na atualidade resume-se apenas a três continentes.
- IV. Mesmo regiões temperadas e frias apresentaram no passado casos de malária, incluindo áreas desérticas do Oriente Médio.

Estão corretas:

- a) I e II b) II e III c) III e IV
 d) I e IV e) I e III

Resolução

Quanto à assertiva II, verificou-se no passado a incidência da doença em áreas de climas temperados, áridos e mesmo frios da Europa, Ásia e América do Norte. No que se refere à assertiva III, observa-se que a doença se espalha, na atualidade, por quatro continentes: América, África, Ásia e Oceania.

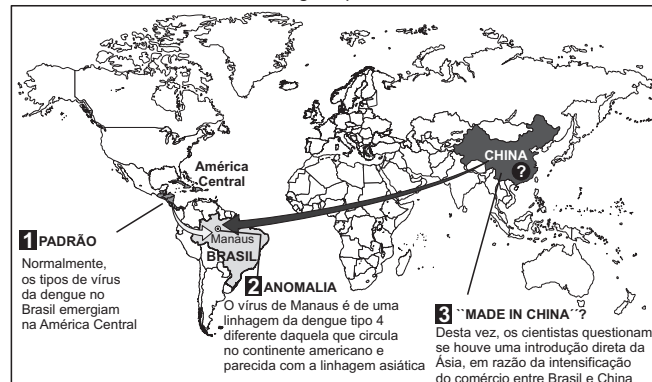
Resposta: D

Questão 2

Atente para o mapa a seguir.

IMPORTAÇÃO DE PRAGAS

Cientistas confirmam vírus da dengue tipo 4 no País



(Folha de S. Paulo, 29/4/2009)

Com base nesse mapa, pode-se concluir que

- a) doenças como a dengue são limitadas, geograficamente, a apenas alguns países.
- b) não há conexão entre os diversos tipos de dengues existentes no mundo.
- c) a globalização econômica recrudesce a dispersão de doenças como a dengue.
- d) as barreiras sanitárias instaladas pelos países foram capazes de isolar a doença.
- e) a dengue se restringe apenas a países de clima tropical.

Resolução

A intensificação do comércio global durante a globalização foi um fator de dispersão de vários tipos de dengue pelo mundo, não apenas em países tropicais, mas também em temperados.

Resposta: C

Questão 3

Em recente artigo intitulado "Reversão do Êxodo Altera a Vida de Migrantes", o jornal *The New York Times*, edição brasileira, afirmava:

Até muito recentemente, países como Espanha, Irlanda e Itália eram nações de emigrantes, não de imigrantes. Isso mudou em uma década de expansão que começou no final de 1990.

Com base nesse comentário e em informações sobre a história recente, analise as seguintes afirmativas:

- I. A expansão recente mencionada no texto refere-se ao crescimento econômico que os países da Europa Ocidental experimentaram a partir dos anos 1990, com o processo de globalização.
- II. A expansão citada limitou-se apenas aos países da Europa Ocidental que promoveram um “enxugamento” do Estado na economia, liberando-a dos altos custos de impostos e regulamentos.
- III. O título do artigo refere-se à reversão do processo, pois a crise econômica deflagrada em meados de 2008 eliminou empregos, levando os imigrantes recém-chegados a retornarem aos países de origem.
- IV. Os termos “imigrantes” e “emigrantes” significam elementos que, respectivamente, saíram e entraram nos países envolvidos.

Estão corretas apenas:

- a) I e III b) I e II c) II e III
 d) III e IV e) II e IV

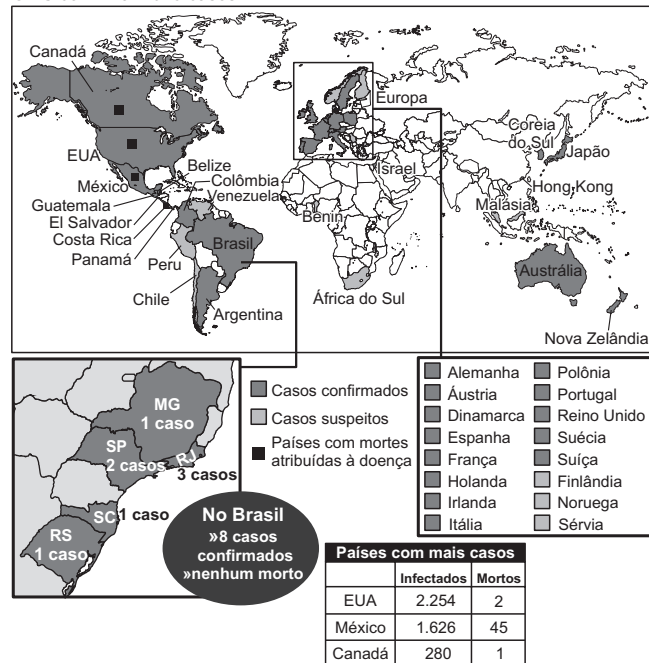
Resolução

Quanto à assertiva II, a expansão econômica promovida pela globalização não se limitou apenas aos países da Europa Ocidental; ela beneficiou vários países do mundo, entre eles os EUA. No que se refere à assertiva IV, há uma inversão no significado dos termos: imigrante é o indivíduo que entra e emigrante é o indivíduo que sai.
Resposta: A

Questão 4

Entre abril e maio de 2009, expandiu-se pelo mundo uma cepa de gripe que ficou conhecida como “gripe suína”, em razão de sua origem em animais da espécie. Em princípios de maio, a doença apresentava a seguinte dispersão:

A DOENÇA PELO MUNDO
 OMS confirma 4.379 casos



(Folha de S.Paulo, 11/5/2009)

Com base nessa ilustração, analise as seguintes proposições:

- I. Em todos os continentes, surgiram casos suspeitos da doença.
- II. Na América, encontram-se os casos mais graves, com eventuais óbitos.
- III. Não parece haver relação climática na dispersão da doença.
- IV. A rapidez dos transportes na era da globalização facilitou a dispersão da doença a partir do México.

Está(ão) correta(s):

- a) nenhuma. b) apenas I.
 c) apenas I, II e III. d) apenas I e IV.
 e) todas.

Resolução

A incidência de diferentes tipos de gripe vem preocupando a Humanidade nestes tempos de rápidas comunicações, proporcionadas pela globalização. Houve a gripe aviária, a partir do Sudeste Asiático, e espalha-se agora a chamada gripe suína, a partir do México.
Resposta: E

Questão 5

Entre 2005 e 2008, a Petrobras efetuou descobertas ao longo do litoral do Rio de Janeiro e São Paulo, na chamada camada do pré-sal, o que promete gigantescas reservas de petróleo para o Brasil. O local onde se encontra a formação pode ser classificada como

- a) uma área cristalina pré-cambriana, onde se concentra uma enorme reserva energética, pois lá também se acham depósitos de gás natural.
- b) um derrame basáltico que aprisionou na camada inferior grande volume de sal e petróleo.
- c) um dobramento terciário, produto da separação das placas da América do Sul e da África, em cuja concavidade se acumulou petróleo.
- d) uma falha tectônica semelhante ao Vale do Paraíba (entre São Paulo e Rio de Janeiro), só que submarina, acumulando petróleo.
- e) uma bacia sedimentar submarina, com reservas de petróleo e gás natural acumulados sob camadas de grande profundidade.

Resolução

Entre as diversas bacias sedimentares que o território brasileiro apresenta, em terra e no mar, as bacias litorâneas são as mais promissoras, concentrando petróleo a grandes profundidades, superiores a 7 mil metros.
Resposta: E

Questão 6

Observe a tabela que indica a porcentagem de população com renda equivalente a US\$ 1,25 por dia.

PESQUISA DO BANCO MUNDIAL				
O combate à pobreza extrema	Porcentagem da população com renda <i>per capita</i> equivalente a US\$ 1,25 por dia			
	1990	2005	2015*	2015**
América Latina e Caribe	11,3	8,2	5,4	5,7
Leste da Ásia e Pacífico	54,7	16,8	5,1	27,4
Europa e Ásia Central	2,0	3,7	2,7	1,0
Sul da Ásia	51,7	40,3	24,5	25,9
Oriente Médio e Norte da África	4,3	3,6	1,8	2,2
África Subsaariana	57,6	50,9	36,6	28,8
* Projetado ** Meta do Milênio				

Fonte: BANCO MUNDIAL – GLOBAL MONITORING REPORT – ABRIL DE 2009.

(O Estado de S. Paulo, 25/4/2009)

Com base na tabela, analise as seguintes afirmativas:

- I. A maioria porcentual dos pobres concentrava-se, em 2005, no Sul da Ásia pelo fato de essa região constituir-se na mais populosa do mundo.
- II. Seja pelos dados projetados pelo Banco Mundial, seja pelas Metas do Milênio, estarão na África Subsaariana, em 2015, os maiores bolsões de pobreza do mundo.
- III. Será no Leste da Ásia e Pacífico que se observará a maior diminuição proporcional da pobreza mundial.

Está(ão) correta(s):

- a) apenas I.
- b) apenas I e II.
- c) apenas I e III.
- d) apenas II e III.
- e) nenhuma.

Resolução

Quanto à assertiva I, não é no Sul da Ásia, mas na África Subsaariana que se concentrava, em 2005, a maioria porcentual dos extremamente pobres.

Resposta: D

Questão 7

Estas regiões possuem uma característica em comum:

- I. Porção ocidental do Paquistão
- II. Fronteira norte do Afeganistão
- III. Cidade de Nova York
- IV. Metrô de Londres
- V. Sistema ferroviário de Madri (Espanha)
- VI. Centro turístico de Mumbai (Índia)

Assinale a alternativa que aponta essa característica em comum:

- a) Foram áreas atingidas por intensas tormentas provocadas pelo aquecimento global.
- b) Apresentam grandes concentrações humanas.
- c) São locais onde ocorreram atentados praticados pela Al Qaeda.
- d) Foram sede de reuniões da OMC, em que houve intensos protestos.
- e) Possuem os centros produtores ou financeiros do petróleo.

Resolução

Acredita-se que o grupo terrorista Al Qaeda tenha sua "base" entre a fronteira do Paquistão e Afeganistão. Após o ataque a Nova York em 2001, esse grupo já agiu no metrô de Londres, nas estações ferroviárias da Espanha e, em 2008, provocou atentados a centros turísticos de Mumbai, na Índia.

Resposta: C

Questão 8

A ONU possui um órgão, criado a partir da II Conferência sobre o Meio Ambiente de 1992 e conhecido como IPCC, que analisa as consequências das mudanças climáticas no mundo. Em uma de suas reuniões, o IPCC projetou um quadro de mudanças climáticas, no qual, entre as várias mudanças estimadas, encontrava-se a seguinte: "Intensificação dos ciclones tropicais e da intensidade das precipitações sobre algumas áreas (> 66% e < 90% de probabilidade)."

Como consequência ambiental e socioeconômica dessa mudança, teríamos uma

- a) diminuição dos riscos de perda de vidas humanas.
- b) perda das colheitas e de criações.
- c) diminuição da erosão nas áreas junto às costas.
- d) diminuição dos danos aos sistemas costeiros como mangues e corais.
- e) diminuição dos danos às construções e infraestrutura.

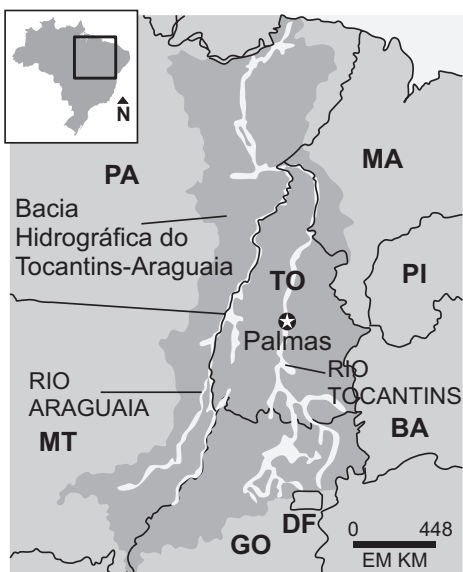
Resolução

Se as precipitações tropicais se intensificarem por meio de ciclones, teremos o aumento dos riscos de perda de vidas, erosão, danos aos sistemas costeiros e às construções e infraestrutura.

Resposta: B

Questão 9

Notícias dão conta de que o Conselho Nacional de Recursos Hídricos aprovou um plano estratégico para a Bacia do Tocantins-Araguaia, aumentando a capacidade produtiva agrícola da região. A seguir, temos um mapa que mostra essa bacia:



(O Estado de S. Paulo, 15/4/2009)

Conforme o mapa, é possível afirmar sobre a Bacia do Tocantins-Araguaia:

- É a maior bacia hidrográfica exclusivamente brasileira, suplantando em área a Bacia do Rio São Francisco.
- Nela se encontra a maior usina hidroelétrica brasileira, Tucuruí, no Estado do Tocantins.
- O Rio Araguaia, um dos formadores do sistema, é tipicamente de planalto, com grande potencial energético.
- Trata-se de uma área de ocupação econômica antiga, com o plantio de cana-de-açúcar e café.
- O sistema é intensamente navegado, ligando Brasília ao São Luís do Maranhão.

Resolução

A maior usina hidroelétrica do Brasil é a Itaipu, no Rio Paraná; o Rio Araguaia atravessa uma planície; a ocupação econômica da região se deu recentemente; apesar do potencial de navegação, o sistema ainda é pouco utilizado.
Resposta: A

Questão 10

É mais provável que o composto químico $Al_2O_3 \cdot 2H_2O$ tenha no Brasil relação com

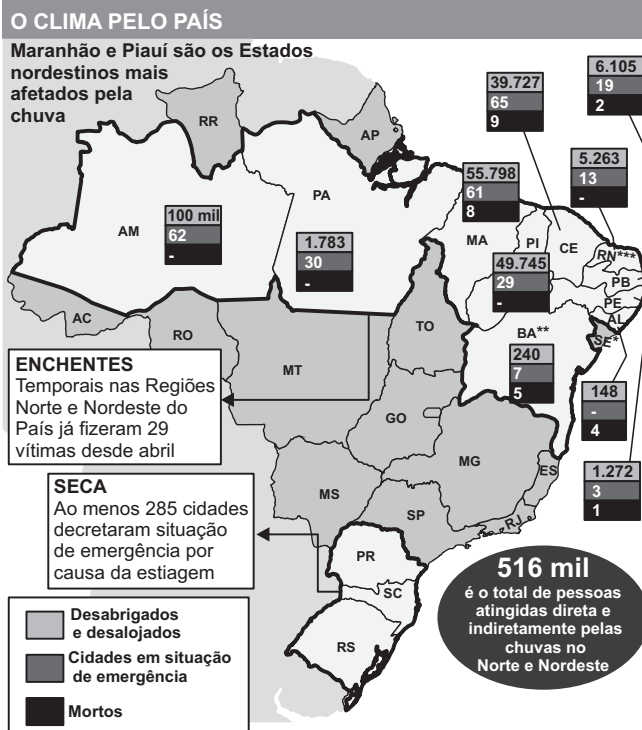
- as jazidas de cassiterita, exploradas no Vale do Rio Madeira (AM).
- as jazidas de pirolusita, extraídas em Conselheiro Lafaiete (MG).
- as jazidas de bauxita, dragadas do Vale do Rio Trombetas (PA).
- as reservas de galena, concentradas no Vale do Rio São Francisco (BA).
- as reservas de calcopirita da Serra do Sol (PA).

Resolução

A reserva em questão é a de bauxita (constituída de hidrato de alumínio), da qual o Brasil é um dos maiores produtores mundiais.
Resposta: C

Questão 11

Observe a situação climática retratada no mapa abaixo, referente a maio de 2009.



* Apenas Sergipe não tem desabrigados, desalojados e mortes
 ** Não inclui números de 6 das 9 cidades mais atingidas, que ainda não entregaram relatório de danos
 *** Não inclui números de 6 das 11 cidades mais atingidas, que ainda não entregaram relatório de danos

Precipitação no Nordeste

Milímetros de chuva, em litro por metro quadrado

	em abril	média histórica
São Luís	767,1	472,6
Fortaleza	561	341,6
João Pessoa	547,4	327,8
Teresina	546,5	299,8
Salvador	507,2	321,6
Natal	359,8	279,6
Recife	345,7	325,7
Maceió	188,2	312,6
Aracaju	156,1	242

Fonte: Defesa Civil dos Estados, Inmet.

(Folha de S.Paulo, 7/5/2009)

Com base no mapa, pode-se afirmar que a situação climática apresentada está relacionada com o movimento das massas de ar e que

- os elevados volumes de chuva no Maranhão e no Piauí ocorrem em razão da entrada da massa Polar atlântica na Região Nordeste do Brasil.
- as chuvas observadas no Meio-Norte do Brasil são o produto da conjunção da massa Equatorial continental e da Equatorial atlântica, gerando elevada precipitação.
- as secas do Sul são causadas pela ação da massa Tropical continental, muito mais intensa que a massa Polar, nessa época do ano.

- d) as chuvas observadas em cidades como Salvador, Recife e Maceió são uma anormalidade, pois no outono não chove no litoral oriental do Nordeste.
- e) é mais provável que as intensas chuvas observadas na faixa litorânea do Nordeste setentrional sejam o produto da ação de furacões do Caribe que se desviaram para o Sul.

Resolução

No outono astronômico, é comum a ocorrência de precipitações na porção setentrional do Nordeste e Meio-Norte. Entretanto, sua elevada intensidade se deveu a uma situação excepcional, na qual duas massas úmidas juntaram forças: a massa Equatorial continental e a Equatorial atlântica.
Resposta: B

Questão 12

Nas relações entre Israel e seus vizinhos árabes, há uma crise constante que envolve as regiões de entorno, como, por exemplo, as Colinas de Golã. Observe o mapa e as declarações dos líderes israelense e sírio:



INFOGRÁFICO/AE

AMEAÇAS

Avigdor Lieberman
Chanceler de Israel

“Não há resolução por parte de Israel sobre as negociações com a Síria e já havíamos avisado que as Colinas de Golã não seriam negociadas.”

Bashar Assad
Presidente da Síria

“A liberação das Colinas de Golã será feita em breve – pela guerra ou pela paz.”

(O Estado de S. Paulo, 3/4/2009)

Com base no mapa e nas declarações apresentadas, pode-se concluir:

- a) Além da fronteira com a Síria, as Colinas de Golã têm grande importância para Israel em razão da presença das nascentes do Rio Jordão, provisão de água numa região árida.
- b) As Colinas de Golã encerram lugares históricos e sagrados, como o local onde nasceu Jesus Cristo.
- c) Além das nascentes do Rio Jordão, o interesse de Israel em manter as Colinas de Golã se deve à presença de imensas jazidas de petróleo.
- d) A retomada das Colinas de Golã pela Síria recuperaria o orgulho nacional, permitindo ao país iniciar negociações para a união política com o Egito.
- e) O líder sírio pode ameaçar Israel com guerra, pois a Síria é a maior potência militar do Oriente Médio, sem qualquer outro país que se compare.

Resolução

As relações entre Israel e seus vizinhos árabes sempre se deram, de uma maneira geral, pela força. Essa situação é mais radical em relação à Síria, pois as Colinas de Golã, tomadas em 1967, ainda não entraram na pauta de discussões para a paz na região. Golã possui as maiores reservas hídricas da região, abastecendo Israel.

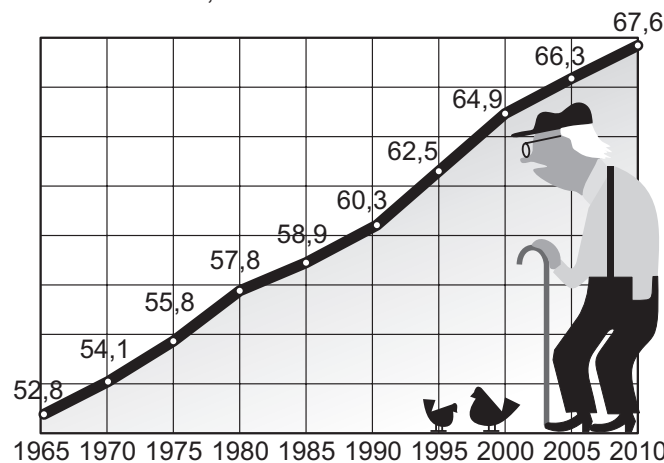
Resposta: A

Questão 13

O gráfico abaixo mostra que a porcentagem de trabalhadores vem aumentando seguidamente entre 1965 e 2010.

PESSOAS EM IDADE PRODUTIVA

De 15 a 65 anos, em % do total



(Folha de S. Paulo, 3/5/2009)

O fato relatado se deve

- a) ao aumento da taxa de natalidade.
- b) à diminuição da expectativa de vida.
- c) ao aumento da taxa de mortalidade.
- d) à diminuição da mortalidade infantil.
- e) ao aumento da expectativa de vida.

Resolução

Ao longo do período considerado, a expectativa de vida do brasileiro aumentou, permitindo que maior número de pessoas em condições de trabalhar se apresentasse ao mercado de trabalho.

Resposta: E

Questão 14

Solo extremamente fértil presente no litoral do Nordeste, junto à faixa oriental, estendendo-se do Rio Grande do Norte até o sul da Bahia. Formado pela decomposição do calcário, possui cores escuras, tendendo para o negro, grande profundidade e é usado desde o período colonial no plantio de cana-de-açúcar.

Trata-se de

- a) terra roxa. b) saibro.
c) várzea. d) massapé.
e) solo hidromórfico.

Resolução

Usado desde o período colonial, esse solo mostra sua capacidade regenerativa, resistindo a contínuos plantios de cana.

Resposta: D

Questão 15

Maior sistema hidrográfico brasileiro, com considerável potencial energético, cuja utilização, contudo, é dificultada pelas consequências ambientais que acarreta. Seu rio, um dos mais extensos do mundo, possui também o maior volume de água. Trata-se da Bacia

- a) Amazônica. b) do Tocantins-Araguaia.
c) do Paraná. d) de São Francisco.
e) do Paraguai.

Resolução

Localizada na Região Norte do Brasil, essa bacia é extremamente importante para a vida da população local, pois permite a utilização de sua água, a pesca e o transporte.

Resposta: A

Questão 16

Leia atentamente o texto:

Depois de dez anos de litígio, a Vale e a Companhia Siderúrgica Nacional (CSN) colocaram ontem um ponto final na disputa em torno da mina de Casa de Pedra, centro produtor de minério localizado em Congonhas (MG) de onde foram extraídas, no ano passado, 17 milhões de toneladas de minério.

(O Estado de S. Paulo, 25/4/2009)

É mais provável que o minério extraído dessa mina seja

- a) o manganês. b) o ferro. c) o alumínio.
d) o cobre. e) o estanho.

Resolução

O ferro é um dos principais metais produzidos no Brasil e a produção da mina de Casa de Pedra destina-se, principalmente, ao mercado interno.

Resposta: B

Questão 17

A má distribuição de terras observada no Brasil levou ao surgimento de movimentos que têm por objetivo promover uma redistribuição, seja pela reforma agrária institucionalizada, seja por meio de atitudes radicais, isto é, invasões. O principal grupo a executar tal política é

- a) o PC do B, partido político de esquerda.
b) a UDR (União Democrática Ruralista).
c) o MST (Movimento dos Trabalhadores Rurais Sem-Terra).
d) o Incra (Instituto Nacional de Colonização e Reforma Agrária).
e) o PT (Partido dos Trabalhadores).

Resolução

Ativo desde 1984, o MST vem promovendo no Brasil invasões de terra, com o objetivo de levar as autoridades agrárias do Brasil a realizar a tão desejada reforma agrária.

Resposta: C

Questão 18

Atente para os seguintes dados referentes a uma determinada organização:

- I. Em 1957, assinou o Tratado de Roma.
II. Em 1973, tinha 6 membros e passou a ter 9.
III. Em 1986, passou a ter 12 membros.
IV. Em 1991, assinou o Tratado de Maastrich.
V. Em 2007, passou a ter 27 membros.

A organização em discussão é

- a) a Otan. b) o Comecon.
c) a Apec. d) a União Europeia.
e) a Euratom.

Resolução

Trata-se da União Europeia, que se constitui, na atualidade, na maior organização econômica mundial, com a somatória do PIB dos países ultrapassando a economia dos EUA.

Resposta: D

Questão 19

A dificuldade em se construir grandes hidroelétricas no Japão está relacionada

- a) à ausência de rios encachoeirados.
- b) à preferência pelo uso de energia nuclear, já que o Japão possui enormes reservas de urânio.
- c) ao uso de energia termelétrica, com o uso de suas enormes jazidas de carvão mineral.
- d) ao pouco volume de água, em razão do clima árido.
- e) ao risco de rompimento de barragens em virtude da instabilidade geológica (terremotos).

Resolução

A construção de grandes barragens poderia resultar, no caso de rompimento causado por um terremoto, numa grande inundação das cidades próximas.

Resposta: E

Questão 20

A América Central é conhecida pela economia precária que sustenta. A maioria de seus países dispõe de poucos recursos naturais e conta apenas com a produção de alguns bens primários e pouquíssimos bens industriais. Esses países estão, assim, sujeitos a interferências externas e têm governos instáveis que, vez por outra, caem em sistemas ditatoriais. Golpes de Estados eram comuns até pouco tempo. Há, contudo, no mundo globalizado, um esforço para se preservar ao máximo a democracia, e a comunidade internacional se une para condenar possíveis tentativas de se chegar ao poder de forma ilícita. Tal fato ocorreu com um golpe perpetrado na América Central contra o presidente de um país que, acusado de manobras eleitorais, foi deposto e deportado. Esse país é

- a) a Costa Rica.
- b) o Panamá.
- c) Honduras.
- d) a Guatemala.
- e) El Salvador.

Resolução

A Corte Suprema de Honduras acusou o presidente, Manuel Zelaya, de tentar uma alteração ilegal na constituição para se reeleger (algo proibido) e, por isso, instruiu o exército a expulsá-lo do país.

Resposta: C

Questão 21

Todo estudante de Geografia já ouviu falar do Monte Everest, a maior montanha da Terra, com 8.848 metros de altitude. Poucos, entretanto, conhecem o Monte K2, a segunda maior montanha da Terra, localizada na cordilheira do Karakorum, uma extensão do Himalaia, no sentido oeste. Junto a essa montanha, temos o Vale do Swat, onde forças do Taleban se enfrentam com o exército dos EUA e _____ na fronteira do _____.

Os países que melhor completam as lacunas são:

- a) Paquistão e Afeganistão
- b) Paquistão e Índia
- c) China e Afeganistão
- d) Paquistão e Nepal
- e) Afeganistão e Tadjiquistão

Resolução

O Taleban (“estudantes do Corão”, que é o livro sagrado muçulmano) ganhou poder na Ásia Central e o disputa no Afeganistão, lutando contra o exército dos EUA. Recebe o apoio do grupo terrorista Al Qaeda e busca refúgio no país vizinho, o Paquistão, cujo exército tenta enfrentá-lo.

Resposta: A

Questão 22

Uma das características da globalização, além dos aspectos econômicos, é a de que diversas nacionalidades decidiram exprimir suas vontades de independência e autonomia, principalmente aquelas mais combativas. Na Europa, temos as demonstrações constantes dos bascos e, em menor grau, dos catalães (na Espanha) e dos flamengos (na Bélgica). Na China, apesar da repressão violenta, dois povos manifestam suas vontades separatistas. São eles:

- a) caxemirianos e *pashtuns*.
- b) tibetanos e uigures.
- c) mongóis e manchus.
- d) hans e tchetchenos.
- e) udmúrtios e carelianos.

Resolução

O Tibete e o Sinkiang são duas regiões autônomas da China, cujos povos (tibetanos e uigures, respectivamente) têm origem e cultura diferentes das dos chineses e nunca aceitaram totalmente o domínio central chinês. Os tibetanos são o grupo mais combativo e, vez por outra, manifestam sua insatisfação, como nos conflitos que precederam a Olimpíada de Pequim de 2008.

Resposta: B

Questão 23

A ocupação do território brasileiro demonstrou, ao longo da história, vários exemplos de elevado impacto ambiental. Ao longo do tempo, várias formações vegetais brasileiras foram severamente atingidas por atividades econômicas, dos mais diversos tipos, que destruíram boa parte do patrimônio biológico nacional. Mas o processo continua, em vez de diminuir, apesar do surgimento de uma conscientização do problema. Um exemplo de bioma que vem sendo duramente atingido pela ocupação atual é

- a) a Mata Atlântica, com o plantio de cana-de-açúcar.
- b) a Campanha Gaúcha, com a criação extensiva.
- c) a caatinga, com o plantio de algodão.
- d) a Mata de Araucária, com a extração de madeira.
- e) o cerrado, com o avanço da cultura da soja.

Resolução

O bioma que, atualmente, mais sofre com a ocupação é o cerrado, que vem sendo retirado para o cultivo do algodão e da soja. Acredita-se que entre 45% e 60% da formação já tenha sido destruída.

Resposta: E

Questão 24

Acaloradas discussões precederam a licença concedida pelo Ibama para a construção das hidrelétricas de Santo Antônio e Jirau, no Vale do Rio Madeira. Temia-se que lá ocorresse um acidente semelhante ao vivido na usina de

- Sobradinho, cuja inundação aniquilou grande extensão de mata atlântica no sertão baiano.
- Itaipu, no Rio Paraná, que inundou terras do Paraguai, levando ao deslocamento de numerosa população.
- Paulo Afonso, no Rio São Francisco, em que o enchimento da usina tornou invisível uma das mais famosas quedas d'água do País.
- Tucuruí, no Rio Tocantins, em que o extravasamento da água da represa original afogou grande área de mata equatorial.
- Três Marias, no Rio Doce, em que a inundação da represa atingiu Belo Horizonte.

Resolução

A construção de usinas hidroelétricas de grande porte na Amazônia causa impacto ambiental por uma série de fatores, como, por exemplo, o relevo de baixos desníveis que leva à construção de imensas represas. Estas, por sua vez, inundam vastas áreas onde grande quantidade de plantas e animais morre afogada. Órgãos ambientais tornam-se, assim, recalcitrantes em fornecer licenças para a execução das obras.

Resposta: D

Questão 25

A Ucrânia, país-membro da CEI, entrou nos noticiários nos últimos anos em virtude de sua posição estratégica. Ela

- tornou-se membro da Otan, sendo, por isso, retaliada pela Rússia, com o corte definitivo no fornecimento de gás natural.
- é assediada pela Otan, da qual quer fazer parte, desafiando as ameaças russas.
- aproximou-se dos EUA, permitindo a instalação de um sistema de escudo antimísseis, apontado para a URSS.
- tornou-se a principal fornecedora de gás natural para a Europa, concorrendo abertamente com a Rússia.
- retornou ao socialismo, desafiando a tendência mundial de liberalização da economia.

Resolução

Temerosa das ameaças e influência da Rússia, a Ucrânia tenta se aproximar do mundo ocidental. Já foi convidada a participar da Otan, a organização de defesa capitalista ocidental, o que a faz enfrentar forte resistência da Rússia, que a considera sua área de influência. A Rússia ameaça-a constantemente com retaliações, como o corte no fornecimento de gás que a Ucrânia importa.

Resposta: B

Questão 26

“Uma denúncia de agressão a duas crianças brasileiras em uma escola de Madri reacendeu na Espanha a polêmica sobre xenofobia nas instituições de ensino do país. A empresária paulista Mônica Patusca afirmou que seus filhos, Carlos Henrique, de 12 anos, e Ana Karina, de 9, foram alvo de agressões físicas e xingamentos racistas por parte de outros alunos do colégio pelo fato de serem estrangeiros. O caso ganhou destaque na imprensa espanhola e levou o governo local a reconhecer que estudantes imigrantes são alvo de xenofobia nas escolas do país.”

(BBC)

46% dos alunos espanhóis de ensino fundamental dizem que preferem não fazer trabalhos escolares com colegas latino-americanos.

A notícia acima aborda a xenofobia, ou seja, a aversão aos estrangeiros. Este elemento

- dificultou a universalização do Império Romano, pois o direito de cidadania permaneceu restrito àqueles que tivessem nascido em Roma.
- não é encontrado em ideologias que contenham um nacionalismo acentuado, a exemplo do fascismo.
- esteve presente na cultura espartana e também de outros povos, em determinados momentos históricos.
- foi um componente importante da democracia ateniense, que somente aceitava como cidadãos aqueles cujos ancestrais tivessem nascido em Atenas.
- vem se manifestando nos países europeus da atualidade, mas sua existência é negada pelas autoridades locais.

Resolução

A desaceleração econômica – e, recentemente, até mesmo a retração – sofrida pelas nações da União Europeia tem provocado o ressurgimento da xenofobia, pois os imigrantes são acusados de ocupar postos de trabalho que deveriam pertencer aos naturais do país. A aversão aos estrangeiros, que é um fenômeno recorrente ao longo da História, constituiu uma característica importante da cultura espartana, assim como o militarismo, o conservadorismo e o laconismo.

Resposta: C

Questão 27

O calvinismo afirma que, sendo um bom cristão, seguindo rigorosamente os preceitos bíblicos e trabalhando muito, o fiel prova a si mesmo que foi um dos escolhidos por Deus. Sendo assim, o sucesso no trabalho e a consequente acumulação de riqueza poderão ser um indício de que ele está predestinado à salvação eterna.


Assinale a alternativa **incorreta** a respeito do calvinismo.

- Expandiu-se por vários países da Europa, encontrando grande aceitação dentro da burguesia.
- Rejeitava a prática da usura e obtenção do lucro, considerando-as corruptoras da alma.
- O comportamento do fiel não depende de seu livre-arbítrio, mas da determinação divina.
- Os padrões éticos do calvinismo representam uma adequação da doutrina cristã às práticas capitalistas.
- Impunha aos fiéis uma rígida disciplina moral, valorizando o trabalho, a poupança e a temperança.

Resolução

O calvinismo considerava o sucesso econômico um indício (mas não uma prova) de predestinação à salvação eterna. Consequentemente, a prática do empréstimo a juros e a busca do lucro – consideradas pecaminosas pela Igreja Católica – eram, para Calvino, formas lícitas de enriquecimento, permitidas por Deus.

Resposta: B

Questão 28

Migrant Mother ("Mãe Migrante"). Florence Owens Thompson, viúva e mãe de 7 filhos, fotografada em Nipomo, Califórnia, para onde se dirigira em busca de emprego ou de ajuda do Serviço Social.

"Nossa família teve de mudar-se. O pai pedira dinheiro emprestado ao banco e agora o banco queria as terras. A companhia queria tratores em vez de pequenas famílias nas terras. Se esse trator produzisse seus sulcos em nossas próprias terras, a gente gostaria do trator, gostaria dele como gostava das terras quando ainda eram da gente. Mas esse trator fazia duas coisas diferentes: traçava sulcos nas terras e expulsava-nos delas. Não havia quase diferença entre esse trator e um tanque de guerra: ambos expulsam os homens que lhes barram o caminho."

(STEINBECK, John. *As vinhas da ira*. 1972. Adaptado.)

A foto e o trecho transcrito estão relacionados com

- a grande atividade produtiva registrada nos Estados Unidos ao longo da década de 1920.
- o período posterior à Segunda Guerra Mundial, quando a crise econômica fragilizou a sociedade de consumo norte-americana.
- a depressão de 1873, que ocorreu no contexto da Segunda Revolução Industrial e se irradiou da Europa para os Estados Unidos.
- uma crise cíclica do sistema capitalista, marcada, neste caso, pelo descompasso entre a subprodução e o superconsumo.
- a Grande Depressão que atingiu os Estados Unidos em decorrência da Crise de 1929.

Resolução

A Crise de 1929, provocada basicamente pela superprodução agrícola e industrial, resultou, nos Estados Unidos e no restante do mundo capitalista, em uma forte recessão econômica conhecida como "Grande Depressão". Um dos efeitos dessa conjuntura na sociedade norte-americana foi o deslocamento de pessoas e famílias, causado pelo desemprego industrial ou pela perda das terras que cultivavam.

Questão 29

HAGAR – Dik Browne

EI, PODEMOS RESOLVER ISTO ATÉ AS 19 HORAS?



A tira apresentada faz referência

- ao capitalismo selvagem, durante o qual o empresário fez as primeiras concessões aos trabalhadores industriais.
- às relações de trabalho existentes no mundo bárbaro durante a Alta Idade Média.
- ao luddismo, quando os artesãos desempregados pela Revolução Industrial Inglesa recorreram a métodos violentos para se recolocarem no mercado de trabalho.
- às relações de trabalho vigentes no sistema socialista, que concede aos trabalhadores autonomia na fixação de seus direitos.
- aos direitos trabalhistas, conquistados gradualmente pelos trabalhadores e sindicatos a partir da segunda metade do século XIX e sobretudo no século XX.

Resolução

Por volta de 1850, o proletariado surgido com a Revolução Industrial começou a se organizar para lutar por melhores condições de trabalho. Nos anos subsequentes, a formação dos sindicatos e o recurso à greve como instrumento de pressão surtiram resultados variáveis, conforme a conjuntura dos países em que ocorreram. As conquistas trabalhistas continuam a acontecer, sendo o adicional por trabalho noturno uma das mais recentes.

Resposta: E

Questão 30

Em fevereiro de 2008, após 49 anos no poder, Fidel Castro cedeu a chefia do Estado a seu irmão Raúl. O novo governo cubano tem falado em “flexibilização”. Sobre esta, é possível afirmar que

- dinamizou o cenário político cubano, abrindo espaço para se questionar a ditadura até agora em vigor.
- tem encontrado resistência no autoritarismo do regime, o que põe em risco as possibilidades de modernização e abertura política.
- produziu, como resultado imediato, o reatamento das relações diplomáticas com os Estados Unidos.
- visa estabelecer em Cuba um regime democrático, sem, no entanto, alterar a estrutura socioeconômica socialista.
- constitui um resultado visível da pressão norte-americana sobre o regime cubano, que não mais conta com a ajuda econômica da URSS.

Resolução

Diante da grave crise por que passa Cuba, em consequência do colapso do socialismo real e do fim da URSS, o governo de Raúl Castro tenta normalizar as relações internacionais de seu país. Esse processo passaria por uma certa abertura político-econômica, a qual esbarra na ortodoxia marxista autoritária inerente ao regime criado por Fidel Castro.

Resposta: B

Questão 31

“Vou tentar fazer uma contribuição para o processo de paz [entre israelenses e palestinos], não como um indivíduo, mas em nome da Igreja, da Santa Sé. Não somos um poder político, mas uma força espiritual, e essa força pode contribuir para avanços no processo de paz.

Minha visita à Jordânia me dá uma oportunidade bem-vinda de falar do meu profundo respeito pela comunidade muçulmana.”

(Papa Bento XIV)

O texto acima mostra mais uma das numerosas tentativas, feitas ao longo de décadas, para promover um acordo definitivo de paz entre israelenses e palestinos. Todavia, ainda não é possível vislumbrar a possibilidade de uma solução para o problema.

Entre os obstáculos para uma paz definitiva entre Israel e os palestinos, podemos destacar

- a situação da minoria católica em Israel e o apoio da Rússia aos palestinos.
- os assentamentos de colonos judeus na Cisjordânia e a disputa por Jerusalém Oriental.
- a intransigência do governo Obama em seu apoio a Israel e o controle do Hamas sobre a Autoridade Palestina.
- a aliança entre Israel e o Irã e a simpatia dos palestinos pelas ações terroristas da Al Qaeda.
- a adesão da maioria dos israelenses a uma solução pacífica e a posição firmemente anti-israelense do Egito e da Jordânia.

Resolução

A continuidade do assentamento de colonos israelenses na Cisjordânia tem implicado a progressiva redução das áreas habitadas pelos palestinos. Por outro lado, Jerusalém Oriental, que os palestinos reivindicam como sua futura capital, foi anexada a Israel e declarada, junto a Jerusalém Ocidental, “capital una e indivisível do Estado Judeu”. Outros problemas de difícil solução na questão árabe-israelense são a disputa pelos recursos hídricos do Rio Jordão e o destino dos refugiados palestinos, além da oposição dos radicais de ambos os lados a qualquer solução negociada.

Resposta: B

Questão 32

“Um militar espanhol de origem basca teve suas pernas feridas por uma bala de canhão durante uma batalha. Enquanto convalescia, dedicou-se à leitura de livros religiosos e à meditação. Resolveu então entregar-se ao serviço de Deus, criando uma ordem religiosa baseada em uma rígida disciplina militar, cujo comandante seria eleito em caráter vitalício. Seus membros fariam os votos habituais de pobreza, castidade e obediência, além de um voto especial de obediência ao papa.”

O texto refere-se

- a) a Francisco de Assis e à Ordem dos Frades Mendicantes.
- b) a Bento de Núrcia e à Ordem dos Beneditinos.
- c) a Inácio de Loyola e à Companhia de Jesus.
- d) a Francisco Xavier e ao clero secular.
- e) a Domingos de Guzmán e à Ordem dos Irmãos Pregadores.

Resolução

Santo Inácio de Loyola (nome original: Íñigo López de Regalde), preocupado com o avanço da Reforma, fundou uma ordem religiosa que atuaria em três frentes: combate ao protestantismo, conversão dos pagãos e educação da juventude católica. Organizados dentro dos princípios militares da hierarquia e disciplina, os jesuítas desempenharam um importante papel na Contrarreforma dos séculos XVI-XVII.

Resposta: C

Questão 33

CHICLETE COM BANANA – Angeli



Sobre o mundo atual, podemos afirmar que

- a) a universalização da informática ofereceu, a todas as comunidades humanas, o livre acesso à informação e aos bens culturais, democratizando o conhecimento e criando valores aceitos por todas as populações.
- b) a informática revolucionou o mundo nos últimos anos, transformando os computadores em instrumentos domésticos dotados de enorme alcance; não obstante, é possível viver na sociedade contemporânea sem sofrer a influência desses instrumentos.
- c) o acesso à informação por meio da informática foi extraordinariamente ampliado; entretanto, tal acesso tornou o mundo dependente da continuidade e eficiência dessa tecnologia.
- d) a atual universalização da informática provocou distorções comportamentais, sobretudo entre os jovens, e alterou os valores éticos; por essa razão, muitos cientistas propõem que se abra mão dessa tecnologia, reconstruindo o mundo de forma mais sustentável.
- e) a tecnologia da informática abriu novas perspectivas às técnicas de ensino, tornando obsoletos os métodos tradicionais e condenando ao iminente desaparecimento sistemas de aprendizado baseados nas escolas tradicionais.

Resolução

O uso dos computadores e de suas técnicas ampliou o acesso à informação e passou a dominar a vida contemporânea, tornando imprescindível sua presença no mundo de hoje.

Resposta: C

Questão 34

“O Reino Unido gosta de se ver como o pai dos ‘Parlamentos’, berço da democracia moderna. Não importam as contribuições de menor monta feitas pela Constituição Norte-Americana ou pela Declaração dos Direitos do Homem proclamada pela França. Nada pode competir com os mil anos de História que existem por trás da Câmara dos Comuns. Quando a então *premier* Margaret Thatcher participou das comemorações do bicentenário da Revolução Francesa, fez pouco caso de seu significado. A essência de suas declarações foi que a democracia britânica não se baseava numa única grande convulsão, como a de 1789: tinha sido erguida sobre os fundamentos muito mais firmes da sabedoria acumulada e da convenção histórica.”

(Philip Stephens, *Financial Times*. Adaptado.)

De acordo com o texto acima e com outros conhecimentos históricos, é possível concluir que

- a) a antiguidade do parlamentarismo inglês demonstra sua superioridade sobre a Constituição dos Estados Unidos e a Revolução Francesa.
- b) a representatividade da Câmara dos Comuns, desde sua fundação, é mais ampla do que a proporcionada pelas conquistas políticas da Revolução Francesa, como o voto universal.
- c) a democracia britânica recebeu importantes contribuições do sistema político norte-americano e da Revolução Francesa, entre as quais a prática do voto censitário.
- d) a evolução política da Inglaterra precedeu de muito a Revolução Norte-Americana e a Revolução Francesa, embora estas tenham dado importantes contribuições para o aperfeiçoamento da democracia.
- e) o Parlamento Britânico, o Congresso Norte-Americano e a Convenção Nacional da Revolução Francesa são instituições similares e pouco evoluíram desde que foram instituídas.

Resolução

Enquanto a Constituição Norte-Americana e a Revolução Francesa pertencem ao final da Idade Moderna, a evolução política da Inglaterra tem suas raízes em plena Idade Média, havendo começado com a Magna Carta (1215) e a instituição do Parlamento (1265).

Resposta: D

Questão 35

“Washington – O pré-candidato presidencial democrata norte-americano, Barack Obama, reafirmou hoje sua intenção de iniciar a retirada militar do Iraque e de fechar a Base de Guantánamo, em Cuba, se ganhar as eleições [de novembro de 2008].”

(Folha de S.Paulo, nov. 2007. Adaptado.)

“Washington – O presidente Barack Obama pretende restabelecer os julgamentos militares, na Base de Guantánamo, de alguns prisioneiros suspeitos de terrorismo, mas com maiores garantias legais para os réus. Estabelecidos pelo governo de George W. Bush e muito criticados internacionalmente, os julgamentos militares de supostos extremistas foram suspensos por 120 dias, logo após a posse de Obama. Na ocasião, o novo presidente afirmou que os Estados Unidos estariam entrando ‘em uma nova era de respeito aos direitos humanos’.”

(Folha de S.Paulo, abr. 2009. Adaptado.)

“Washington – O presidente Barack Obama mudou de ideia e vai pedir mais US\$ 83,4 bilhões ao Congresso para financiar as guerras no Iraque e no Afeganistão, informaram funcionários da Casa Branca.”

(Folha de S.Paulo, abr. 2009. Adaptado.)

As informações acima nos permitem depreender que

- o presidente dos Estados Unidos se mostra coerente com suas propostas de reformular as práticas políticas do governo anterior, abandonando posturas progressistas em favor de soluções militares.
- o presidente Obama vem pondo em prática suas promessas de campanha, entre as quais se destacam a desestabilização do regime cubano e o esmagamento da insurgência iraquiana e afegã.
- há uma grande semelhança entre a atuação política dos presidentes Bush e Obama, pois ambos enfatizam a preservação das praxes democráticas no julgamento de suspeitos de terrorismo.
- existe uma contradição entre as propostas feitas por Obama em sua campanha eleitoral e no início de seu governo, se comparadas com suas recentes decisões sobre os prisioneiros de Guantánamo e as intervenções militares no Afeganistão e no Iraque.
- as recentes atitudes e declarações do presidente Obama mostram sua disposição para modificar radicalmente a política dos Estados Unidos nas questões relacionadas à luta contra o terrorismo.

Resolução

Durante sua campanha como candidato à Presidência da República, Barack Obama apresentou propostas bastante ousadas para diversas questões, entre elas uma revisão da situação dos prisioneiros detidos na Base de Guantánamo e a progressiva retirada das tropas americanas engajadas no Iraque. Todavia, ao assumir o governo, ele tem adotado atitudes mais conservadoras no que se refere a tais questões, conforme se percebe nas notícias transcritas no enunciado.

Resposta: D

Questão 36

**VALENTINE'S DAY
É EXEMPLO DE AMERICANIZAÇÃO**

“O Irã comemorou, em 14/2/2009, o Dia dos Namorados. Como nos Estados Unidos e em muitos países europeus, Teerã teve seu *Valentine's Day*. O governo proibiu menções a essa comemoração importada do Ocidente, mas o romantismo falou mais alto. Dezenas de lojas exibiam nas vitrines corações e a palavra proibida *Valentine's*. Restaurantes tinham reserva completa de mesas para namorados, em um país onde teoricamente casais não podem sair sós antes do casamento. A americanização do Irã, apesar da proibição de música e TV ‘ocidentais’, está por toda a parte. CDs piratas de Kanye West, 50 cent e Madonna são vendidos livremente. Antenas parabólicas são proibidas, mas abundam.”

(Folha de S.Paulo, 15 fev. 2009. Adaptado.)

O texto acima trata do imperialismo cultural que mescla elementos da civilização norte-americana com os de outros povos, a exemplo da influência

- cultural grega que, após as conquistas de Alexandre Magno, produziu a civilização helenística.
- de elementos africanos e indígenas na formação cultural do povo brasileiro.
- cultural dos persas sobre os gregos, após a vitória dos primeiros nas Guerras Greco-Pérsicas.
- cultural de Roma sobre o Mundo Grego, provocando o desaparecimento da cultura clássica.
- muçulmana sobre as civilizações chinesa e hindu, após a expansão árabe que se seguiu à morte de Maomé.

Resolução

A civilização helenística mesclou elementos da cultura grega com outros de origem oriental. Os primeiros, porém, tiveram caráter dominante, pois foram impostos por Alexandre Magno, conquistador dos povos do Oriente.

Resposta: A

Questão 37

“Um fenômeno curioso é como a senhora é mais falada do que amada, exaltada do que praticada, evocada do que realizada. Veja o Brasil. Desde a queda do Império, a senhora foi sequestrada por nossas elites e, embora o nosso povo continue a pagar, como resgate, cotas de sofrimento e miséria, continua impedida de ganhar praças e ruas. Quando tentou fugir do cativo, seus áulicos a puniram com rigor, fazendo-a desaparecer de nosso cenário político, como ocorreu no Estado Novo, na década de 30, e na ditadura militar, entre 1964 e 1985.”

(Frei Betto. Folha de S.Paulo, 10 jul. 2002.)

No texto apresentado, o autor escreve a uma senhora imaginária que, para ele, representa um regime político. Trata-se da

- a) monarquia.
- b) ditadura.
- c) democracia.
- d) oligarquia.
- e) tirania.

Resolução

A democracia é o regime político no qual os cidadãos elegem livremente seu governo. O texto enfatiza o Estado Novo (1937-45) e a ditadura militar de 1964-85 como os dois períodos em que a democracia deixou de existir no Brasil. Entretanto, convém lembrar que a Primeira República (1889-1930), com suas práticas de “voto de cabresto” e fraude eleitoral, não foi um período verdadeiramente democrático.

Resposta: C

Questão 38

“A noção de monumento histórico compreende, além da obra arquitetônica em si, os sítios urbanos e rurais, testemunhos de uma determinada civilização, de uma evolução significativa ou de um fato histórico. Compreende as grandes criações e também as obras modestas que, através dos tempos, adquiriram valor cultural significativo.”

(Carta de Veneza, Art. 1º Disponível em: <portal.iphan.gov.br>. Adaptado.)

A Carta de Veneza (1964) é um documento internacional que trata da restauração e conservação de monumentos e localidades com interesse cultural. Serve de parâmetro para a formulação de políticas de preservação do patrimônio histórico no Brasil e no mundo. Com base no artigo da Carta de Veneza acima transcrito, é correto afirmar que

- a) os monumentos históricos se restringem ao patrimônio arquitetônico.
- b) as construções modestas são monumentos de menor interesse cultural.
- c) as produções culturais significativas são consideradas monumentos históricos.
- d) os monumentos somente terão valor histórico se puderem ser relacionados com a civilização atual.
- e) deve ser dada preferência à preservação dos monumentos históricos localizados em sítios rurais.

Resolução

Mera interpretação de texto.

Resposta: C

Questão 39



(História da Vida Privada no Brasil, v. 4.)



(História da Vida Privada no Brasil, v. 4.)

As duas ilustrações acima foram produzidas em 1970. A primeira é uma propaganda do governo militar, veiculada com outras que diziam “Pra frente, Brasil!” e “Ninguém segura este país”. A segunda é uma charge sobre a Copa do Mundo de 1970, quando o Brasil ganhou o tricampeonato de futebol. É possível afirmar que essas imagens expressam visões

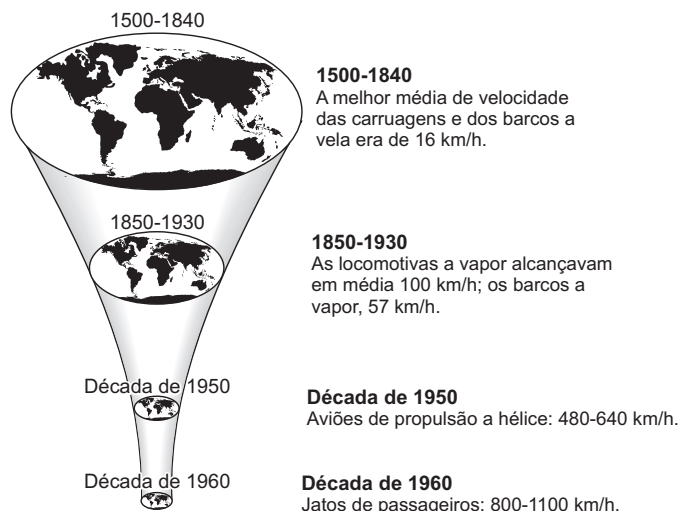
- a) distintas, pois a primeira defende a ideia de amar o Brasil a qualquer preço e a segunda faz uma crítica à fome e à pobreza.
- b) semelhantes, pois ambas sugerem o amor aos símbolos.
- c) semelhantes, pois ambas defendem o patriotismo e a luta para acabar com a pobreza no País.
- d) diferentes, pois a primeira sugere a expulsão dos pobres e a segunda valoriza o futebol.
- e) independentes, pois as ações políticas pouco influem na vida da população.

Resolução

O cartaz divulgado pelo governo militar procura justificar o banimento de militantes opositores, considerando-os indivíduos contrários à ideia de pátria. Já a charge procura mostrar que uma parcela significativa do povo brasileiro continuava a viver na miséria, mesmo em tempos de “Milagre Econômico”; para elas, a conquista do tricampeonato tinha um valor meramente ilusório.

Resposta: A

Questão 40



Assinale a alternativa que melhor expressa a ilustração e os textos acima.

- a) A destruição do meio ambiente começou com a invenção da locomotiva a vapor.
- b) A Terra era maior no tempo das carruagens e dos barcos a vela.
- c) Os meios de transporte não puderam ultrapassar a velocidade máxima que alcançaram na década de 1960.
- d) O progresso dos meios de transporte faz com que o mundo pareça menor.
- e) O fim do mundo está relacionado com o progresso dos transportes.

Resolução

Velocidade é a relação entre um espaço e o tempo gasto para percorrê-lo; portanto, quanto mais veloz o meio de transporte, menor seu tempo de deslocamento – o que dá a impressão de que as distâncias se tornam menores.
Resposta: D

Questão 41

“Em 23 de outubro de 1906, Santos Dumont realizara a proeza de alçar-se ao ar a bordo do 14-Bis, em Paris, no primeiro voo documentado da história da aviação.”

(LUSTOSA, Isabel. Esses bravos heróis dos ares. *Revista Nossa História*, ano 1, n. 2, p. 34, dez. 2003.)

“No dia 17 de dezembro de 1903, na cidade de Kitty Hawk, na Carolina do Norte (EUA), os irmãos Wright conseguiram voar 36,5 metros em 12 segundos com sua aeronave Flyer 1 – fato considerado na maior parte do mundo, especialmente nos Estados Unidos, como o primeiro voo motorizado da História.”

(360 graus Multimídia, 17 dez. 2003. Disponível em: <<http://360graus.terra.com.br>>. Adaptado.)

A leitura dos fragmentos apresentados permite-nos concluir que

- a) há um consenso internacional sobre a paternidade da aviação.
- b) Santos Dumont é considerado mundialmente o “Pai da Aviação”.
- c) há uma polêmica a respeito de quem teria realizado o primeiro voo a motor da História.
- d) o voo motorizado dos irmãos Wright foi divulgado mundialmente logo após sua realização.
- e) os irmãos Wright são reconhecidos mundialmente como os “Pais da Aviação”.

Resolução

A controvérsia sobre a realização do primeiro voo a motor reside principalmente no fato de que os irmãos Wright não divulgaram seu feito na época em que ele teria sido realizado, ao passo que o voo de Santos Dumont foi amplamente testemunhado.

Resposta: C

Questão 42



(Vistas do Mosteiro do Caraça (MG), no século XIX e na atualidade. *Revista Museu*.)

Disponível em: <www.revistamuseu.com.br/naestrada>. Acesso em: 13 abr. 2006.)

“O Mosteiro do Caraça, que já foi colégio e seminário, deu nome ao parque nacional localizado na Serra do Espinhaço, no município de Catas Altas. O entorno do

mosteiro foi transformado em Reserva Particular de Patrimônio Natural em 1990, para que esse santuário ecológico não venha a sofrer futuros danos. Sua história iniciou-se em 1774, quando o ex-jesuíta Carlos Mendonça Távora fugiu de Portugal, escapando à perseguição do Marquês de Pombal. Sob o disfarce de frade franciscano, chegou à região do Caraça, isolada e protegida por montanhas, onde deu início à construção do mosteiro.”

(Revista Museu. Disponível em: <www.revistamuseu.com.br/naestrada>. Acesso em: 13 abr. 2006. Adaptado.)

O Parque Nacional do Caraça pode ser considerado um patrimônio que

- guarda a memória de hereges católicos refugiados no Brasil Colônia.
- sobre põe sua importância cultural às características naturais da região.
- possui valor natural, arquitetônico, cultural e histórico.
- perdeu sua função social e atualmente mostra uma aparência decadente.
- evidencia a limitada biodiversidade da Mata Atlântica.

Resolução

O Parque Nacional do Caraça possui importância natural em razão de sua exuberante biodiversidade, além de rios, cascatas, riachos, matas e grutas. Possui importância arquitetônica porque abriga uma construção característica do estilo barroco jesuítico. Possui importância cultural por causa das diversas funções atribuídas àquele edifício. Finalmente, possui importância histórica pelas circunstâncias em que foi construído o referido mosteiro.

Resposta: C

Questão 43

“O panorama do comércio europeu modificou-se profundamente nos séculos XII e XIII. A evolução das técnicas mercantis, resultante da intensificação das transações e de uma maior necessidade de capitais e de crédito, levou à substituição do pequeno mercador itinerante pelo grande comerciante sedentarizado. Graças à utilização das letras de pagamento e de câmbio, à organização de seguros e à formação de associações ou companhias comerciais, tornou-se possível aos mercadores fazer negócios a distância, sem abandonar a cidade natal. Surgiram os primeiros banqueiros, dispendo de uma rede de sócios e empregados.”

(ESPINOSA, Fernanda. *Antologia de textos medievais*. Lisboa: Sá da Costa, 1972. p. 223. Adaptado.)

Considerando as informações acima, assinale a alternativa correta.

- A partir dos séculos XII e XIII, houve uma retração do comércio na Europa.
- Os grandes comerciantes tornaram-se agricultores, cedendo espaço para a atuação dos mercadores itinerantes.

- O incentivo ao crédito e o surgimento das letras de pagamento e de câmbio ampliaram as fronteiras comerciais.
- Os banqueiros abandonaram suas cidades de origem para formar associações comerciais.
- Os mercadores da época constituíram associações conhecidas pelo nome de “corporações de ofício”.

Resolução

O texto refere-se ao Renascimento Comercial e Urbano da Baixa Idade Média, quando o feudalismo entrou em crise e começaram a se desenvolver as primeiras práticas capitalistas.

Resposta: C

Questão 44

“O coronelismo representou uma variante de uma relação sociopolítica mais geral — o clientelismo —, existente tanto no campo como nas cidades. Essa relação resultava da desigualdade social, da impossibilidade de os cidadãos efetivarem seus direitos, da precariedade ou inexistência de serviços assistenciais do Estado, da inexistência de uma carreira no serviço público. Do ponto de vista eleitoral, o ‘coronel’ controlava os votantes em sua área de influência. Trocava votos em candidatos por ele indicados por favores tão variados como um par de sapatos, uma vaga no hospital ou um emprego de professora.”

(FAUSTO, Boris. *História do Brasil*. São Paulo: Edusp, 1998. p. 263.)

Com base no texto, é possível afirmar que o “voto de cabresto”

- não interferia no resultado das eleições, pois os eleitores tinham liberdade para escolher seus candidatos.
- foi a forma encontrada pelos “coronéis” para auxiliar os eleitores mais pobres, o que fortalecia o processo democrático.
- foi uma prática que contribuiu para diminuir as desigualdades sociais e fortalecer o censo de cidadania dos brasileiros.
- esteve ligado a um contexto social de desigualdades e levava os eleitores a trocar votos por benefícios a curto prazo.
- evidenciava o controle do Estado sobre o sistema eleitoral, graças à utilização de militares para evitar as fraudes eleitorais.

Resolução

O “voto de cabresto” e a prática corrente da fraude eleitoral constituíam os mecanismos de preservação do poder político dos “coronéis” em seus “currais eleitorais”. Embora pudesse resultar da intimidação do eleitor, o “voto de cabresto” geralmente envolvia relações de clientela (concessão de favores em troca de apoio político).

Resposta: D

Questão 45

“Em 1937, houve o golpe que implantou o Estado Novo; ele fora cuidadosamente preparado, pois Vargas fizera aprovar previamente, pelo Congresso Nacional, inúmeras medidas repressivas. A ditadura, de forte coloração fascista, inspirava-se nas doutrinas direitistas que grassavam pelo mundo, como em Portugal, Espanha, Itália e Polônia. Partidos dissolvidos, outorga de uma Constituição de molde fascista, censura, repressão policial, tortura e os demais ingredientes típicos das ditaduras.”

(FICO, Carlos. O Brasil no contexto da Guerra Fria: democracia, subdesenvolvimento e ideologia do planejamento [1946-1964]. In: MOTTA, Carlos Guilherme (Org.). *Viagem incompleta: a grande transação*. São Paulo: Senac, 2000. p. 167. Adaptado.)

Com base no texto, é correto afirmar que o Estado Novo foi um período

- a) democrático, no qual os brasileiros puderam exercer plenamente sua cidadania.
- b) de autoritarismo, mas também de fortalecimento da cidadania e de ampliação das liberdades.
- c) de governo autoritário, no qual as liberdades individuais foram restringidas.
- d) de liberdade, garantida pelo governo, para os partidos políticos e a imprensa.
- e) ditatorial, durante o qual o Congresso exerceu um papel de destaque na vida política.

Resolução

O regime do Estado Novo teve caráter claramente ditatorial, tendo em vista a concentração de poderes na pessoa do chefe de Estado e a forte restrição às liberdades públicas e individuais. Entretanto, embora inspirado no modelo fascista, o Estado Novo não poderia ser considerado totalitário, pois lhe faltavam uma ideologia definida e um partido único que lhe desse sustentação e controlasse o aparelho de governo.

Resposta: C

