

Fuvest 2006

Faculdade de Arquitetura e Urbanismo da USP

Provas Específicas das carreiras 203 — Arquitetura FAU e 228 — Design

Prova de Linguagem Bidimensional

Data: 12 de janeiro de 2006

Horário: das 14h às 18h

Observações gerais relativas à prova

- Verifique se o número impresso nas etiquetas coladas nas duas folhas de desenho que você recebeu corresponde ao seu número de inscrição.
- Faça os desenhos solicitados nas faces opostas àquelas em que estão as etiquetas.
- As três folhas de papel branco fino, sem etiqueta, são para rascunho.
- Ao final da prova, você deverá entregar ao fiscal apenas as duas folhas etiquetadas.
- Não assine nenhuma das folhas, sob pena de anulação da prova.

Questão 1

Esta questão visa avaliar a capacidade do candidato fazer um desenho incorporando elementos dados.

Você recebeu uma folha de papel branco com nove quadrados azuis impressos sobre ela. Você deverá fazer um desenho tomando como ponto de partida esses nove quadrados.

As condições para a execução do desenho são as seguintes:

- **Você deverá obrigatoriamente posicionar a folha com a maior dimensão na vertical.**
- **O desenho poderá ser feito com grafite preto, lápis de cor e/ou lápis cera.**
- É opcional o uso de instrumentos de desenho técnico (régua, esquadros, compassos etc.).

Questão 2

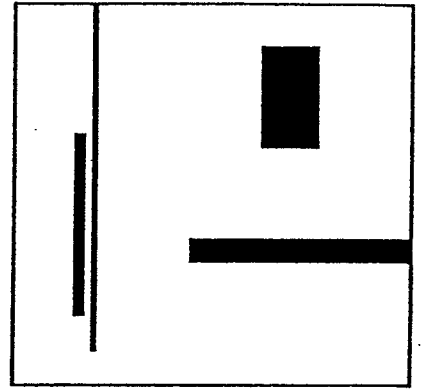
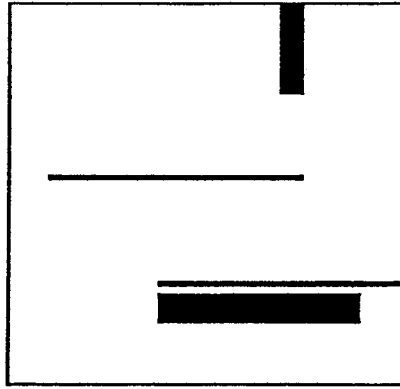

Esta questão visa avaliar a capacidade do candidato identificar princípios formadores de padrões visuais e fazer novas variações obedecendo aos mesmos princípios que caracterizam um determinado padrão.

No verso desta folha são fornecidos a você três padrões visuais. Cada um deles é composto por três variações que obedecem ao mesmo princípio visual. Você recebeu uma folha de papel branco com nove campos quadrados impressos sobre ela. Nos três campos correspondentes ao Padrão 1, você deverá desenhar três novas variações desse padrão, obedecendo ao mesmo princípio das três fornecidas. Repita a operação nos campos correspondentes aos Padrões 2 e 3, sempre obedecendo ao mesmo princípio visual que caracteriza cada um deles.




As condições para a execução dos desenhos são as seguintes:

- **Os desenhos deverão ser feitos com grafite preto.**
- É opcional o uso de instrumentos de desenho técnico (régua, esquadros, compassos etc.).

Padrão 1



Padrão 2



Padrão 3

