



# OBJETIVO

UNIDADE

NOME COMPLETO

2009

## SIMULADO ENEM

Ciências Humanas e suas Tecnologias

RESOLUÇÃO  
COMENTADA

### INSTRUÇÕES PARA A REALIZAÇÃO DA PROVA LEIA COM ATENÇÃO

Esta prova contém 50 questões, cada uma com 5 alternativas, das quais somente uma é correta. Assinale, no cartão de respostas, a alternativa que você julgar correta.

Será anulada a questão em que for assinalada mais de uma alternativa ou que estiver totalmente em branco. Assinale apenas uma alternativa para cada questão.

Assinale a resposta preenchendo totalmente, a lápis, o respectivo alvéolo, com o cuidado de não ultrapassar o espaço delimitado. Não assinale as respostas com um "X", pois esta sinalização não será considerada.

Ao receber o cartão de respostas, preencha cuidadosamente o verso com os dados solicitados.

Não rasure nem amasse a folha de respostas. Não escreva nada no cartão de respostas fora do campo reservado.

#### EXEMPLO DE PREENCHIMENTO

1	A	C	D	E
2	A	B	D	E
3	B	C	D	E
4	B	C	D	E
5	A	B	D	E
6	A	B	C	E
7	A	C	D	E
8	A	B	C	E
9	A	C	D	E
10	A	B	C	E
11	B	C	D	E
12	A	B	C	D
13	A	B	C	E
14	A	C	D	E
15	A	B	C	D


A duração da prova é de 2 horas e 30 minutos, não havendo tempo suplementar para marcar as respostas.

É terminantemente proibido retirar-se do local da prova antes de decorrida 1 hora e 30 minutos após o início, qualquer que seja o motivo.

A qualquer dúvida, levante a mão e pergunte ao fiscal de sala.

**Boa prova!**





## Questão 1

O quadro abaixo mostra alguns contingentes de imigrantes que se deslocam pelo mundo.

DE OLHO NOS VIZINHOS	
No mundo em desenvolvimento, milhões buscam vida melhor em países de melhor renda.	
PAÍSES DE DESTINO	PAÍSES DE ORIGEM DOS IMIGRANTES
Brasil	Paraguai, Bolívia, Peru
Argentina	Paraguai, Bolívia, Peru
Venezuela	Bolívia, Equador, Peru, Colômbia
Panamá	Colômbia
Costa Rica	Nicarágua
África do Sul	Lesoto, Zimbábue, Moçambique, Malauí
Marrocos	Senegal, Mauritânia, Mali, Níger, Gabão
Líbia	Mali, Níger
Tailândia	Vietnã, Laos, Camboja, Mianmar
Índia	Sri Lanka, Mianmar, Bangladesh, Nepal, Afeganistão
Países do Golfo	Sri Lanka, Índia, Malásia, Filipinas

(Banco Mundial)

Um bom título para essa tabela poderia ser:

- a) Migração Sul-Sul.
- b) Migração Norte-Sul.
- c) Fluxo Intercontinental.
- d) Fluxo de Refugiados.
- e) Migração Leste-Oeste.

### RESOLUÇÃO:

O fluxo migratório de pessoas de países pobres (Sul) para países menos pobres (Sul) tem sido detectado por organismos como a ONU. Tal fluxo inclui até mesmo o Brasil.

Resposta: A

## Questão 2

### POVOAMENTO DO BRASIL NO SÉCULO XVIII



- Povoamento sob domínio português
- Áreas habitadas por indígenas

(Adaptado de: AZEVEDO, Aroldo de. *Terra brasileira*. 38. ed. São Paulo: Nacional, 1964.)

Observando-se o mapa, pode-se afirmar que

- a) os portugueses respeitaram a posse das terras brasileiras pelos indígenas.
- b) a grande extensão do território brasileiro facilitou o compartilhamento das terras entre indígenas e portugueses.
- c) os portugueses respeitaram os limites estabelecidos pelo Tratado de Tordesilhas, deixando para os índios os territórios situados a oeste.
- d) as áreas povoadas pelos indígenas permaneceram sob o controle da Coroa Espanhola.
- e) os portugueses se apoderaram de grande parte do território anteriormente habitado pelos indígenas.

### RESOLUÇÃO:

O mapa mostra que, no século XVIII, grande parte do atual território brasileiro fora ocupada pelos portugueses, dentro do processo de exploração colonial mercantilista. Tal ocupação realizou-se em detrimento dos povos indígenas e com o extermínio de inúmeras tribos.

Resposta: E

### Questão 3

Atente para a notícia:

#### **Bioma perdeu 40% da cobertura**

*Enquanto o desmatamento da Amazônia é motivo de clamor internacional, a devastação do(a) \_\_\_\_\_ passa quase despercebida, até mesmo no Brasil. O segundo maior bioma do Brasil já perdeu 40% de sua cobertura original. Se forem contadas as áreas de pastagens manejadas, que utilizam o capim nativo, em vez do plantado, o índice de ocupação chega a 56%.*

A alternativa que preenche corretamente a lacuna é:

- a) Mata Atlântica.
- b) mata ciliar.
- c) caatinga.
- d) Mata dos Cocais.
- e) cerrado.

#### **RESOLUÇÃO:**

*O avanço do agronegócio no cerrado mostra o costumeiro grau de devastação ocasionado pelo progresso capitalista exacerbado pelo uso de tecnologia.*

Resposta: E

### Questão 4

Observe o mapa.



Mapa de Lopo Homem, 1519.

Com base nesta representação cartográfica do Brasil e em outros conhecimentos sobre o assunto, pode-se considerar que

- a) o Brasil era visto como uma terra cuja economia se apoiava na agricultura.
- b) os europeus realizavam o escambo do pau-brasil, utilizando para tanto a mão-de-obra indígena.
- c) indígenas e africanos, na época em que o mapa foi confeccionado, eram utilizados pelos europeus como trabalhadores escravos.
- d) a representação de navios europeus e de animais nativos sugere o contrabando de espécimes da fauna silvestre brasileira.
- e) os indígenas brasileiros costumavam escravizar membros de tribos inimigas.

#### **RESOLUÇÃO:**

*Tendo sido confeccionado em 1519, o mapa reproduzido refere-se ao Brasil Pré-Colonial, no qual a única atividade econômica praticada pelos europeus era a extração de pau-brasil, retirado com a utilização de mão-de-obra indígena livre. Esta era recompensada com produtos de baixo valor monetário, configurando a prática do escambo.*

Resposta: B

### Questão 5



A gravura de Escher, entrando um pouco na filosofia, sugere que

- o homem é um ser que reflete sobre sua própria condição.
- o homem deforma a realidade por meio do conhecimento.
- a ciência é o único conhecimento que retrata fielmente a realidade.
- a reflexão filosófica não permite a exposição do sujeito.
- a única função da filosofia é promover o autoconhecimento.

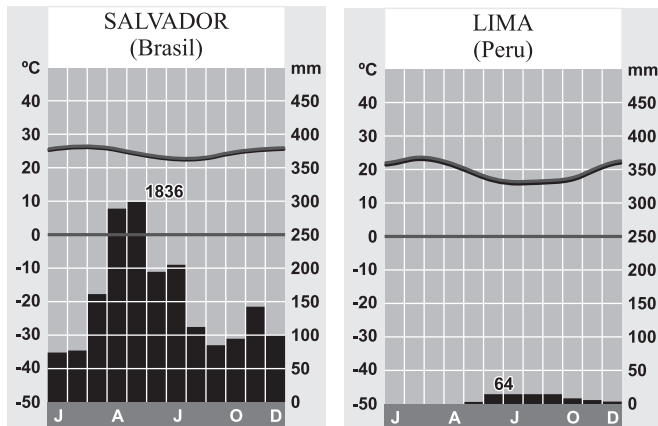
**RESOLUÇÃO:**

*O ser humano é diferenciado dos outros animais pela sua capacidade de refletir e conhecer a sua condição de ser existente. O desenho de Escher apresentado foi só uma motivação visual para lembrar essa condição humana.*

**Resposta: A**

**Questão 6**

Apesar de apresentarem praticamente a mesma latitude, Salvador, na Bahia, Brasil (12°59'S), e Lima, no Peru (12°03'S), possuem climogramas bem díspares.



(Atlas National Geographic, 2008)

Analisando-os, pode-se afirmar que

- as diferenças se devem ao fato de que Lima se encontra em meio à Cordilheira dos Andes e Salvador se acha junto ao litoral.
- Salvador é mais chuvosa, pois sofre a ação de ventos úmidos vindos do mar mais a ação, durante o inverno, da massa Polar atlântica, que traz umidade do sul.
- a influência da corrente de Humboldt na costa do Peru torna Lima mais fria e úmida que Salvador.
- ocorre uma diferença de posição geográfica, pois as cidades mais a oeste, como é o caso de Lima, são sempre mais secas.
- a umidade oceânica não chega à cidade por causa da baixa altitude de Lima.

**RESOLUÇÃO:**

*Enquanto Salvador (na Bahia) está sob a ação de massas muito mais úmidas – uma associação entre os ventos úmidos litorâneos e a massa Polar atlântica –, Lima (na costa ocidental da América do Sul) sofre a ação da corrente fria do Peru ou de Humboldt. Essa corrente impede uma maior evaporação junto à costa do Peru, tornando a cidade um pouco mais fria e praticamente árida.*

**Resposta: B**

**Questão 7**



(Miguel Paiva e Lilia Moritz Schwarcz, Da Colônia ao Império)

Ao tratarem do processo da Independência do Brasil, os autores da charge expressam críticas

- aos políticos conservadores, que impediram D. Pedro I de aprovar uma Constituição liberal e democrática após a ruptura política com Portugal.
- aos fazendeiros paulistas, por terem desrespeitado os direitos políticos dos escravos, previstos na Proclamação da Independência.
- às elites brasileiras que, por serem adeptas do liberalismo francês, não quiseram manter os acordos econômicos que favoreciam os ingleses.
- às elites nacionais, que continuaram a utilizar o trabalho escravo mesmo após a proibição presente na Proclamação da Independência.
- às classes dominantes, que romperam os entraves políticos do Pacto Colonial sem questionar a estrutura socioeconômica vigente no Brasil.

**RESOLUÇÃO:**

*O processo que levou à emancipação política do Brasil foi conduzido pelas elites agrárias. Estas adotaram o ideário liberal então em voga, utilizando-o em benefício próprio, mas sem estendê-lo à massa de escravos que constituíam a base da força de trabalho do País.*

**Resposta: E**

### Questão 8

*A sociologia é uma ciência que pretende compreender interpretativamente a ação social e assim explicá-la causalmente em seus cursos e efeitos.*

(Max Weber)

O autor pretendeu afirmar que

- a) o sociólogo quer produzir um sistema explicativo que se ajuste a qualquer realidade social estudada.
- b) o sociólogo deve ser um agente habilitado a trazer soluções para os problemas sociais.
- c) o sociólogo deve produzir um conhecimento crítico, capaz de enxergar as contradições da sociedade.
- d) o sociólogo quer compreender a causa e a motivação da ação social.
- e) a sociologia expõe um conhecimento politicamente comprometido.

#### RESOLUÇÃO:

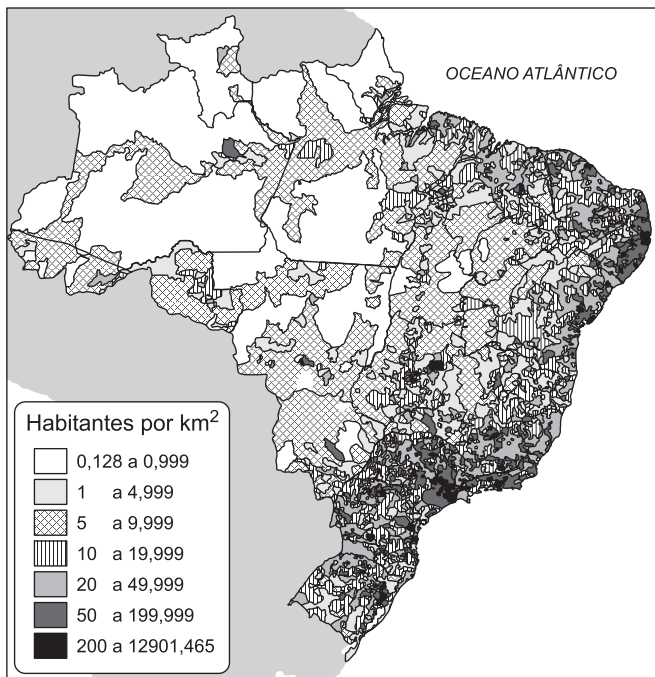
*Trata-se de um exercício de interpretação da frase de Weber, que revela o fundamento clássico e a definição de método para ele.*

Resposta: D

### Questão 9

Analise o mapa que mostra a distribuição das densidades demográficas do Brasil e o relacione com os aspectos geográficos e históricos do País para determinar a alternativa correta:

DENSIDADE DA POPULAÇÃO – 2000



- a) A grande concentração se dá em torno do Distrito Federal, pois, como é a unidade que contém a capital do País, atraiu o maior contingente de imigrantes.
- b) A população apresenta as maiores densidades junto

às faixas litorâneas do Sudeste e do Nordeste em virtude do processo de colonização do Brasil, que se fez a partir do litoral.

- c) Não se observa, fora de uma faixa de 300km de largura a partir do litoral, qualquer maior concentração populacional no interior do País.
- d) As baixas densidades presentes nas áreas interiores do Brasil, notadamente o Centro-Oeste e o Norte, devem-se à preservação das formações vegetais originais.
- e) O processo de colonização imposto em regiões como a Campanha Gaúcha, baseado na criação extensiva, a torna uma região de grande concentração populacional.

#### RESOLUÇÃO:

*Além do Distrito Federal, observam-se outras regiões do País como São Paulo (capital), Recife, Rio de Janeiro (capital), Salvador, entre outras, com elevadas densidades. Ultrapassando-se a faixa fictícia de 300km de largura a partir da costa, há também algumas áreas de concentração como Brasília, Manaus etc. Os vazios observados no Centro-Oeste, principalmente, se devem a atividades pecuaristas, e não à preservação das formações vegetais originais. Finalmente, a Campanha Gaúcha é relativamente vazia, pois a criação extensiva utiliza, por natureza, baixos contingentes populacionais.*

Resposta: B

### Questão 10

#### CONSTITUIÇÃO DE 1937

##### Dos Direitos Sociais

Art. 139 – A greve e o *lockout* [paralisação de empresários] são declarados recursos antissociais, nocivos ao trabalho e ao capital e incompatíveis com os superiores interesses da produção nacional.

#### CONSTITUIÇÃO DE 1988

##### Dos Direitos Sociais

Art. 9º – É assegurado o direito de greve, competindo aos trabalhadores decidir sobre os interesses que devam por meio dele defender.

Com base nas citações extraídas das Constituições de 1937 e 1988, é possível afirmar que o direito de greve

- a) ajudou a desenvolver a indústria nacional depois de 1937, durante a ditadura de Getúlio Vargas.
- b) é uma conquista social recente, concedida pela ditadura militar dos anos 60 e confirmada durante o processo de redemocratização que se seguiu.
- c) foi proibido durante a ditadura de Getúlio Vargas e reconquistado em 1988, dentro de um contexto de abertura democrática.

- d) foi concedido em 1937 a apenas algumas categorias profissionais, estendendo-se a todas elas somente em 1988.
- e) é pouco utilizado atualmente, dadas as boas relações existentes entre patrões e empregados.

**RESOLUÇÃO:**

**A Constituição de 1937, outorgada por Getúlio Vargas para regulamentar a ditadura do Estado Novo, não reconheceu o direito de os trabalhadores (e também os empresários) fazerem greve. Esse direito, parcialmente aceito pela Constituição de 1946, sofreu fortes restrições durante a ditadura militar de 1964-85 e foi amplamente restabelecido pela Constituição de 1988, que o estendeu ao funcionalismo público. Resposta: C**

**Questão 11**

*Há algum racismo efetivo: quase insignificante como traço negativo da situação social do Brasil. E ao seu lado, considerável racismo aparente.*

*Quando o abalizado padre Bastos de Ávila – intelectual muito do meu apreço e da minha estima – fala em “racismo brasileiro”, como em recente e longo discurso proferido numa Associação Comercial, comete, a meu ver, um equívoco sociológico. O “racismo” que denuncia é antes aparente do que real. Os exemplos de racismo que cita não são, de modo algum, de exato racismo, mas de desigualdades de ascensão socioeconômica que, atingindo brasileiros de cor, atingem, em cheio, brasileiros brancos. Brancos, porém pobres. O equivalente do chamado, nos Estados Unidos, “poor white trash”. Fenômeno, portanto, muito mais de classe do que de raça. Ou de classe e não de raça.*

*De que principalmente resulta o fato de serem raros, no Brasil de hoje, os bispos ou altas autoridades eclesíásticas, homens ostensivamente de cor; almirantes e generais ostensivamente de cor; ministros de Estado ou governadores, ostensivamente de cor; embaixadores ou plenipotenciários ostensivamente de cor? De um predominante preconceito de raça ou de cor?*

*Parece a alguns analistas mais discriminadores do assunto que não. E sim resultado de um predominante preconceito de classe.*

(Gilberto Freyre)

Para o clássico sociólogo brasileiro Gilberto Freyre,

- a) há no Brasil um profundo racismo, herança do processo histórico escravocrata.
- b) há no Brasil um racismo camuflado por um suposto espírito tolerante.
- c) confunde-se no Brasil preconceito racial com preconceito de classe; este último realmente caracteriza o País.
- d) há no Brasil um racismo semelhante ao que existe em outros países, como nos EUA.
- e) não há, em geral, preconceitos no Brasil.

**RESOLUÇÃO:**

**Segundo Freyre, há no Brasil um preconceito de classe social, confundido com racismo.**

**Resposta: C**

**Questão 12**

*Nova York – Um menino de apenas cinco anos de idade é apontado por médicos como possível “paciente zero” no México do surto da gripe suína que já teria provocado a morte de mais de 150 pessoas no país (...). Edgar mora em La Gloria, no Estado mexicano de Vera Cruz. Boa parte dos cerca de 3.000 habitantes do povoado ficou doente entre o fim de março e o início de abril (...). Seus familiares não foram infectados, nem mesmo os que moram debaixo do mesmo teto que ele.*

*O mais intrigante, no entanto, é o fato de os primeiros sintomas da doença no menino terem vindo à tona depois que duas pessoas nos EUA já haviam sido infectadas. É possível que a doença tenha começado na Califórnia e sido levada por alguém ao México para depois espalhar-se pelo mundo. Também há indícios de que a doença tenha origem euro-asiática, prossegue o “The Washington Post”.*

(Agência Estado, 29/4/2009.

<http://www.estado.com.br/internacionalnot.int.362578,0.htm>

Levando-se em conta o texto e seus conhecimentos, pode-se inferir que a gripe suína é uma

- a) endemia que se tornou epidemia em face do intenso fluxo de migrantes mexicanos em direção aos EUA, um fato respaldado pelo acordo estabelecido pelo Nafta, que permite a livre circulação de pessoas e mercadorias entre seus membros.
- b) epidemia que se tornou endemia, tendo em vista o livre trânsito de cidadãos dos EUA para o México, cujo retorno possibilita uma maior propagação da doença em um país com população quase três vezes maior que a mexicana.
- c) pandemia que se tornou endemia, levando-se em conta que o grande número de turistas de diferentes países que afluem para importantes pontos turísticos do México, como Tenochtlán, Cancún e outros, disseminam a doença com mais intensidade.
- d) epidemia que pode ser tornar pandemia, pois o fluxo de pessoas que circulam entre o México e os EUA é intenso e o controle na fronteira tem sido driblado pelo significativo número de mexicanos ingressos ilegalmente nos EUA, onde os fluxos para outros países é muito mais intenso.
- e) endemia que se tornou pandemia, refletindo o fato de que o fluxo de pessoas do México para outros países e continentes é maior que o fluxo dos EUA para o restante do mundo.

### RESOLUÇÃO:

Conforme o texto, a doença pode ter origem tanto no México como nos EUA ou na Eurásia. Mas foi no México que o surto ocorreu como uma epidemia que em poucos dias se alastrou pelos EUA e outros países da Europa e da Ásia, podendo se tornar uma pandemia.

A alternativa correta é a d, que, além de indicar a sequência mais provável de epidemia para pandemia (e não uma endemia restrita a uma determinada região ou localidade), destaca o grande fluxo de mexicanos para os EUA. Esse fluxo pode ser composto tanto de turistas, empresários, estudantes e migrantes legais como de migrantes ilegais, que fogem ao controle do Estado norte-americano, de onde o fluxo para outros países é maior do que a partir do México.  
Resposta: D

### Questão 13

Ciro, o Grande, fundador do Império Persa, estendeu seus domínios até a Ásia Menor, alcançando os Mares Egeu e Negro. O expansionismo persa naquela área deu origem a uma prolongada luta que se travou entre 490 e 449 a.C. A denominação dada a esse conflito e sua principal consequência foram, respectivamente:

- a) Guerra de Troia e Primeira Diáspora Grega.
- b) Guerra do Peloponeso e decadência da Grécia.
- c) Guerras Púnicas e domínio romano sobre o Mediterrâneo.
- d) Guerras Médicas e apogeu de Atenas.
- e) Guerras Alexandrinas e formação do Império Helenístico.

### RESOLUÇÃO:

As Guerras Médicas, também conhecidas como Guerras Pérsicas ou Greco-Pérsicas, opuseram a maioria das cidades gregas, lideradas por Atenas, ao imperialismo persa. A vitória final dos gregos, organizados na Confederação de Delos, assinalou o início do declínio do Império Persa e, em contraposição, o apogeu da civilização grega, consubstanciada na chamada “Época de Péricles”, ocorrida em Atenas (século V a.C.).

Resposta: D

### Questão 14

Compete à ética preocupar-se com o desenvolvimento e o bem-estar de cada órgão, não só em si mesmo, mas em função de todo humano. A Bioética tem o grande desafio de colocar a questão da clonagem humana, observando seus aspectos positivos e negativos. Que consequências a curto, médio e longo prazo trará a clonagem humana? Nem as ciências biológicas sabem dar uma resposta. Nenhum ser humano foi clonado para se aferir as vantagens e desvantagens desta técnica. Sabe-se que a ovelha Dolly, clonada na Inglaterra com sucesso, já apresenta sinais de envelhecimento precoce.

(José Jorge Ribeiro Meirelles)

Segundo o texto,

- a) a clonagem humana é absolutamente contrária a uma postura ética.
- b) a clonagem é aconselhável para evitar um envelhecimento precoce.
- c) a questão da clonagem passa pela Bioética, pois é preciso aliar ciência e responsabilidade.
- d) não há como dimensionar eticamente a questão da clonagem, pois também não há como pesquisar os efeitos positivos e negativos.
- e) a clonagem é positiva, pois a experiência com a Dolly foi um sucesso.

### RESOLUÇÃO:

O autor aborda exatamente a questão ética diante da experiência científica da clonagem. O texto questiona as consequências e isso significa evocar o senso de responsabilidade.  
Resposta: C

### Questão 15

Manchetes em jornais de nossos dias:

“Aumenta a tragédia da subnutrição na África”

“Gripe suína preocupa, alerta a OMS”

“O governo Obama envia mais vinte mil soldados para a Guerra do Afeganistão”

Essas manchetes podem lembrar um trágico período do passado europeu. Estamos nos referindo à tríade formada

- a) por fomes cíclicas, pela Peste Negra e pela Guerra dos Cem Anos.
- b) pela devastação das florestas europeias, pela Gripe Espanhola e pelas invasões bárbaras.
- c) pela crise do escravismo romano, pela peste bubônica e pela Guerra dos Trinta Anos.
- d) pela Grande Depressão, pelo início da Aids e pela Segunda Guerra Mundial.
- e) pela crise das batatas na Europa, pelas Dez Pragas do Egito e pela Guerra dos Sete Anos.

### RESOLUÇÃO:

A fome resultante de secas cíclicas que flagelaram a produção agrícola, a morte de 1/5 da população europeia pela Peste Negra (epidemia de peste bubônica) e o início da Guerra dos Cem Anos entre França e Inglaterra foram os acontecimentos que fizeram do século XIV um dos mais sombrios períodos da história europeia.

Resposta: A

### Questão 16

Sistema caracterizado pela base agrícola de subsistência, pela fixação do camponês à terra e, no plano político, pelo poder descentralizado baseado em relações de suserania e vassalagem. Esse conjunto de características aplica-se

- a) ao capitalismo monopolista.
- b) ao modo de produção asiático.
- c) à servidão coletiva.
- d) ao feudalismo.
- e) ao coletivismo agrário.

**RESOLUÇÃO:**

**O sistema feudal, cujas características mais marcantes estão especificadas no enunciado, prevaleceu na Europa Ocidental ao longo da Idade Média, embora suas raízes remontassem ao século III (crise do Império Romano) e seus resquícios tenham subsistido até a Revolução Francesa.**

**Resposta: D**

**Questão 17**

**UM PLANETA SEDENTO**

Algumas das imagens mais marcantes da Grande Depressão [EUA] vieram de Estados ressequidos das pradarias americanas, onde a terra árida forçou famílias de agricultores a fugir em busca de empregos e sustento. A situação desesperadora inspirou as baladas de Woody Guthrie sobre o “Dust Bowl” e o livro “As Vinhas da Ira” de John Steinbeck.

(...) Algo semelhante acontece em todo o mundo hoje. Secas persistentes da Austrália ao Afeganistão e da Espanha à Argentina se somam à recessão global para dificultar a vida de agricultores e pecuaristas.

(The New York Times/Folha de S. Paulo, 30/3/2009)

O texto refere-se a situações como

- I. a crise econômica desencadeada pela queda da bolsa de valores de 1929, que causou a “Grande Depressão” na economia dos EUA.
- II. um paralelo entre a conjuntura no início dos anos 30 e a atual recessão desencadeada pela crise financeira de 2008.
- III. as secas que ocorreram na década de 1930 e que hoje se repetem por todo o globo, atingindo todos os países do mundo.
- IV. a crise atual que envolve, em grau semelhante, todos os países do mundo.

Sobre o texto em estudo, estão corretas apenas as afirmativas:

- a) I e II
- b) II e III
- c) III e IV
- d) I e IV
- e) II e IV

**RESOLUÇÃO:**

**Quanto à afirmativa III, as secas que ocorreram na década de 1930 e as atuais não podem ser comparadas e também não se estendem a todos os cantos do globo. No que concerne à afirmativa IV, a atual crise de cunho financeiro não atinge os países de maneira semelhante.**

**Resposta: A**

**Questão 18**



(Carlos Eduardo Novaes e César Lobo, *História do Brasil para principiantes*)

A ilustração refere-se a um episódio da assinatura da Lei Áurea pela princesa Isabel, em 13 de maio de 1888.

A interpretação histórica dada pelo cartunista baseia-se na ideia de que

- a) os representantes da Monarquia, seguindo a orientação dos abolicionistas, mostravam-se favoráveis ao estabelecimento de um regime republicano no País.
- b) os republicanos, vitoriosos nas eleições de 1888, convenceram os monarquistas a aprovarem o fim do tráfico de escravos para o Brasil.
- c) uma das causas da proclamação da República foi a desistência da princesa Isabel de assumir o trono do Brasil.
- d) uma das primeiras medidas do governo republicano, ao assumir o poder, foi pressionar o Congresso Nacional a aprovar a abolição da escravatura.
- e) um dos fatores do fim do Império no Brasil foi a insatisfação dos escravocratas com a decretação da abolição do trabalho compulsório.

**RESOLUÇÃO:**

**O fato de a abolição da escravatura não ter previsto uma indenização para os proprietários de escravos levou os defensores do escravismo a retirar seu apoio à Monarquia, inviabilizando a possibilidade de a princesa Isabel vir a assumir o trono imperial.**

**Resposta: E**

## Questão 19

SÃO PAULO, quinta-feira, 12 de maio de 1938

### Subjugado audacioso golpe integralista no Rio

*Os sediciosos tomaram, de início, o Ministério da Marinha e atacaram o Palácio Guanabara – Enérgica atuação do presidente da República – O ministro da Guerra fere-se ligeiramente no combate aos insurretos – Avalia-se em 15 o número de mortos e 20 o de feridos – Cerca de 500 prisões efetuadas – A ação repressiva foi prontamente organizada, conseguindo abafar rapidamente o movimento.*

(Adaptado da Folha da Manhã)

Durante o Estado Novo (1937-45), o governo de Getúlio Vargas reprimiu a ação de um grupo político, conforme o noticiário apresentado. Esse grupo

- a) pregava a luta das classes populares contra o poder do Estado.
- b) almejava uma sociedade socialista e a implantação da reforma agrária.
- c) combatia o regime ditatorial de Vargas e o sistema de partido único.
- d) lutava contra a Igreja Católica e as tendências conservadoras em geral.
- e) defendia princípios associados à ideologia fascista.

#### RESOLUÇÃO:

**A Ação Integralista Brasileira – movimento de extrema direita criado por Plínio Salgado em 1932 – foi dissolvido, com as demais agremiações políticas, após a implantação do Estado Novo. Em maio de 1938, um grupo de integralistas tentou realizar um golpe de Estado, mas foi rapidamente debelado.**

**Resposta: E**

## Questão 20



Esta foto foi tirada há duas décadas, dentro da crise do chamado “socialismo real”.

Nesse contexto, o governo chinês

- a) tolerou a rebeldia dos manifestantes contra o regime comunista e aceitou as críticas formuladas por ele.
- b) reprimiu com violência as manifestações estudantis e manteve a rigidez do regime comunista.
- c) adotou uma postura semelhante à dos regimes do Leste Europeu, implantando a democracia e aderindo à economia de mercado.
- d) massacrrou os dissidentes anticomunistas e interrompeu as reformas econômicas que estavam em curso.
- e) viu-se compelido, diante da amplitude das manifestações oposicionistas, a negociar uma abertura política que incluía importantes propostas ambientais.

#### RESOLUÇÃO:

**Diferentemente dos regimes comunistas da Europa Oriental e da própria URSS, que acabaram por se democratizar, o regime chinês reprimiu violentamente a oposição estudantil (Massacre da Praça da Paz Celestial, em 1989) e manteve a estrutura ditatorial que o caracterizava. Mas, paralelamente, continuou o processo de abertura da economia.**

**Resposta: B**

## Questão 21

*A cafeicultura alcançou a província de São Paulo, adentrando a região paulista do Vale do Paraíba. Localidades como Areias e Bananal tornaram-se, depois de 1850, as mais ricas vilas da província. A Fazenda Resgate, em Bananal, que se encontra preservada, possui 21 quartos, dos quais cinco são alcovas onde as moças dormiam vigiadas pelos pais; sua sala de visitas é ornamentada em estilo rococó (...) Pertencente a Manoel de Aguiar Vallim, a Fazenda Resgate chegou a produzir 1% da riqueza nacional. Na época, ela era quase autossuficiente: além do café, produzia anil, fumo, açúcar mascavo e algodão, com o qual se teciam as roupas dos escravos; comprava somente sal e peixe salgado (...) Longe de manter a Resgate para o próprio deleite, Braga [atual proprietário da fazenda] permite que grupos de estudantes visitem o casarão (...) “Eu me considero uma espécie de fiel depositário da Resgate. Acho justo que as pessoas tenham acesso à memória do país.”*

(PIMENTA, Angela. Pá na memória. Revista Veja, edição 1441, p. 122-125, 24 abr. 1996.)

Com base no texto, pode-se considerar que

- I. a Fazenda Resgate é um patrimônio histórico representativo do período em que a cafeicultura constituiu a grande riqueza da região.
- II. a deterioração da Fazenda Resgate se relaciona com o descaso do poder público com o patrimônio histórico nacional.
- III. a preservação da Fazenda Resgate resulta da importância que lhe dá seu atual proprietário, pois ela é parte da memória do desenvolvimento econômico do País.

Assinale a alternativa correta.

- a) Somente as afirmações I e II são verdadeiras.
- b) Somente as afirmações I e III são verdadeiras.
- c) Somente as afirmações II e III são verdadeiras.
- d) Todas as afirmações são verdadeiras.
- e) Nenhuma afirmação é verdadeira.

**RESOLUÇÃO:**

**A afirmação II é falsa porque contraria o texto, no qual consta que a Fazenda Resgate vem sendo preservada por seu atual proprietário.**

**Resposta: B**

**Questão 22**

*O trono real não é o trono de um homem, mas o trono do próprio Deus. Os reis participam de alguma maneira da independência divina (...) O rei vê mais longe e de mais alto; deve-se acreditar que ele vê melhor e deve-se obedecer-lhe sem murmurar, pois o murmúrio é uma disposição para a sedição.*

(Jacques Bossuet [1627-1704],  
A política inspirada nas Sagradas Escrituras)

*A única maneira de instruir um poder comum é conferir toda sua força a um homem, ou a uma assembleia de homens que possa reduzir suas diversas vontades, por pluralidade de votos, a uma só vontade.*

(Thomas Hobbes [1588-1679], O Leviatã)

Por meio da leitura desses textos, pode-se concluir que

- a) ambos afirmam que o poder absoluto dos reis advém do caráter divino deles na monarquia.
- b) o primeiro explica a origem do poder absoluto com base na razão iluminista e o segundo, conforme o cristianismo.
- c) os argumentos contidos no segundo texto são a base da democracia e, no primeiro texto, da ditadura.
- d) os textos concordam quanto à legitimidade do poder dos governos absolutistas, mas apresentam justificativas distintas para tal conclusão.
- e) o primeiro texto explica o sentido da monarquia para os medievalistas, enquanto o segundo apresenta a lógica do pensamento ilustrado.

**RESOLUÇÃO:**

**Enquanto Bossuet encontra uma justificativa teológica para a origem do absolutismo real, Hobbes formula uma explicação racionalista para a mesma instituição política.**

**Resposta: D**

**Questão 23**

*O homem, para Sartre, não pode ser ora livre, ora escravo. Ele é totalmente e sempre livre, ou não o é. A liberdade não é alguma coisa que é dada, mas resulta de um projeto de ação. É uma árdua tarefa cujos desafios nem sempre são suportados pelo homem, daí resultando os riscos de perda de liberdade pelo homem que se acomoda, não lutando para obtê-la.*

(Dora Lúcia Alcântara)

Para o filósofo existencialista Sartre, a condição humana é

- a) marcada pela liberdade, condição que lhe garante satisfação e segurança.
- b) marcada pela escravidão, pois homem algum é de fato livre.
- c) marcada pela liberdade que é dada naturalmente, nunca ameaçada por qualquer circunstância.
- d) marcada ora pela liberdade, ora pela escravidão, dependendo da condição econômica.
- e) marcada pela liberdade que é causadora de angústia.

**RESOLUÇÃO:**

**O texto comenta que nem sempre o homem suporta os desafios da liberdade, considerando-a uma tarefa árdua. A liberdade, segundo Sartre, é condição ontológica. O ser humano é nada, antes de ser qualquer coisa, e é absolutamente livre para transformar-se, definir-se e engajar-se, porém a liberdade causa angústia ao homem, visto que ele se vê obrigado a fazer escolhas e se sente oprimido pela responsabilidade implicada.**

**Resposta: E**

**Questão 24**

Leia os textos:

- I. O homem ritualiza sua rotina por meio de comemorações, cerimônias, festas e cultos. Assim, ele se assegura de que a vida tem algum sentido e garante a reprodução da vida social.
- II. Não é só isso. O homem elabora abordagens do real. Não tolerando o caos ou a desordem, ele busca interpretações da realidade e acumula saberes que lhe permitem uma vida plena de consciência, usando a inteligência para escapar do absurdo da existência, ou seja, o homem traça para si uma existência de fato humana.

Considerando-se esses dois aspectos da cultura, o homem produz em I e II respectivamente:

- a) a reflexão filosófica e a arte.
- b) as relações sociais e o conhecimento.
- c) a religião e os artefatos.
- d) os artefatos e a política (relações de poder).
- e) a arte e a economia (reprodução da riqueza material).

**RESOLUÇÃO:**

O texto I mostra como os ritos possuem uma função socializadora, e o texto II aponta a necessidade humana de produzir conhecimento para escapar do caos e dar um sentido à vida e ao mundo.

Resposta: B

**Questão 25**



A charge pode melhor sugerir

- a) o choque de interesses entre a burguesia nacional e a internacional.
- b) a exploração econômica exercida pela classe dominante, que dificulta o desenvolvimento do Brasil.
- c) o conflito que se estabeleceu entre os interesses do capital e a necessidade de tornar o Brasil um Estado de bem-estar social.
- d) o interesse das potências em estabelecer uma colônia política no Brasil, para mais facilmente explorar seus recursos.
- e) o conflito, no entendimento marxista, entre a classe dominante (o proletariado) e a classe dominada (a burguesia).

**RESOLUÇÃO:**

A charge coloca, de um lado, as pessoas que constituem a sociedade civil e a população brasileira e, de outro, a estereotipada burguesia, que é a classe dominante e que representa a força do capital.

Resposta: C

**Questão 26**

Como procede a ideologia para obter esse fantástico resultado? Em primeiro lugar, opera por **inversão**, isto é, coloca os efeitos no lugar das causas e transforma estas últimas em efeitos. Ela opera como o inconsciente: este fabrica imagens e sintomas; aquela fabrica ideias e falsas causalidades.

Por exemplo, o senso comum social afirma que a mulher é um ser frágil, sensitivo, intuitivo, feito para as doçuras do lar e da maternidade e que, por isso, foi destinada, por natureza, para a vida doméstica, o cuidado do marido e da família. Assim o “ser feminino” é colocado como causa da função social feminina.

(Marilena Chauí)

A filósofa brasileira entende “ideologia” como

- a) um simples conjunto de ideias.
- b) um conjunto de ideias coerentes e refletidas.
- c) uma postura política e um posicionamento consciente diante da realidade social.
- d) uma falsa consciência e um processo irrefletido de conhecer a realidade.
- e) uma doutrina equivocada sem função no sistema social e cultural.

**RESOLUÇÃO:**

Para a filósofa, a ideologia seria uma visão fechada e irrefletida e, por isso mesmo, geralmente se apresenta como um pensamento rígido e instrumental. Uma ideologia é vista aqui como uma fórmula dogmática, pronta, no sentido de fabricada, que tudo explica e esgota. Em geral, podemos dizer que, no sentido empregado, uma ideologia visa à estrutura inconsciente, tal qual ocorre com as propagandas que incitam o indivíduo ao consumismo.

Resposta: D

Responda às questões 27 e 28 com base no texto e em seus conhecimentos.

Atente para a notícia:

**MOSCOU SAI EM BUSCA DE EXPATRIADOS NO MUNDO**

Vasily Reutov nunca tinha posto os pés na Rússia até alguns meses atrás, mas no momento em que o fez soube que finalmente tinha chegado em casa. (...)

(...) O governo está tentando evitar o grave declínio populacional do país atraindo de volta russos que vivem no exterior e seus descendentes. Reutov e dezenas de outros membros de sua comunidade religiosa (um ramo da Igreja Ortodoxa Russa, conhecido como Antigos Crentes, fugidos das perseguições comunistas da década de 1920) no Uruguai tornaram-se alguns dos exemplos mais marcantes dessa política. (...)

(...) O governo russo não se limita aos vizinhos da Rússia e enviou emissários por todo o mundo para vender o programa. Um deles foi ao Brasil recentemente para conhecer residentes de vários países que, como Reutov, são Antigos Crentes. (...)

(The New York Times/Folha de S. Paulo, 30/3/2009)

**Questão 27**

Quando o texto cita o Brasil, está se referindo a

- a) um fluxo imigratório de russos que adentraram o país no século XIX, fugindo da instalação do socialismo na Rússia.
- b) grupos de imigrantes que vieram para o Paraná, principalmente entre 1870 e 1886, trabalhando em atividades agrícolas.

- c) grupos de pessoas que, com o fim da Segunda Guerra Mundial, deixaram a Rússia destruída em busca de novas terras.
- d) fluxos de refugiados que escaparam das perseguições nazistas durante a Segunda Guerra Mundial.
- e) imigrantes que vieram para o Estado do Pará, competindo com os imigrantes japoneses no plantio de pimenta-do-reino.

**RESOLUÇÃO:**

**Deixando uma terra assolada por crises econômicas durante o século XIX, os russos foram direcionados pelo governo imperial brasileiro para o Estado do Paraná que, nesse período, apresentava grandes vazios populacionais. Seu isolamento no interior do Estado permitiu que o grupo mantivesse muitas de suas características culturais.**

**Resposta: B**

**Questão 28**

Quando se fala em declínio populacional da Rússia, poderíamos estender essa situação para

- a) a América Latina que, após um intenso processo de urbanização, conduzido pela industrialização dos anos 1950-80, viu decair rapidamente suas taxas de natalidade na mesma proporção que as da Rússia.
- b) a Ásia, principalmente em países do Sul e do Sudeste, cuja industrialização acelerada após o surgimento dos Tigres Asiáticos mudou radicalmente o comportamento da população.
- c) os três países da América do Norte que apresentam um dos índices de fecundidade mais baixos do mundo.
- d) a Europa, cujos índices de fecundidade vêm se apresentando em queda já há vinte anos, preocupando as autoridades a ponto de levá-las a criar programas de incentivo de vários tipos.
- e) a Oceania, em que as diminutas populações de alguns países insulares se preocupam com a constante redução da população ativa.

**RESOLUÇÃO:**

**Mesmo apresentando quedas nas suas taxas de fecundidade, países da América Latina (incluindo o México na América do Norte) ainda não apresentam problemas de declínio populacional, como acontece com a Rússia e com países da Europa Oriental. Nesse continente, a situação vai se tornando grave, a ponto de os países fazerem uso de subterfúgios, como incentivar as famílias a conceberem mais filhos ou mesmo repatriar antigos grupos emigrados.**

**Resposta: D**

**Questão 29**

Na Palestina, Tibete, Caxemira e Curdistão, há em comum

- I. nacionalidades historicamente enraizadas, com autonomia político-administrativa.
- II. povos que lutam por independência em relação a governos centrais de outros países.

- III. regiões estratégicas associadas à presença de grandes reservas de petróleo.
- IV. nacionalidades que vivem em territórios estratégicos do ponto de vista político-militar.
- V. movimentos emancipatórios atrelados ao ideário socialista, fato que atrai a atenção dos EUA.

Estão corretas apenas:

- a) I, II e IV
- b) IV e V
- c) II e IV
- d) I e III
- e) I, II e III

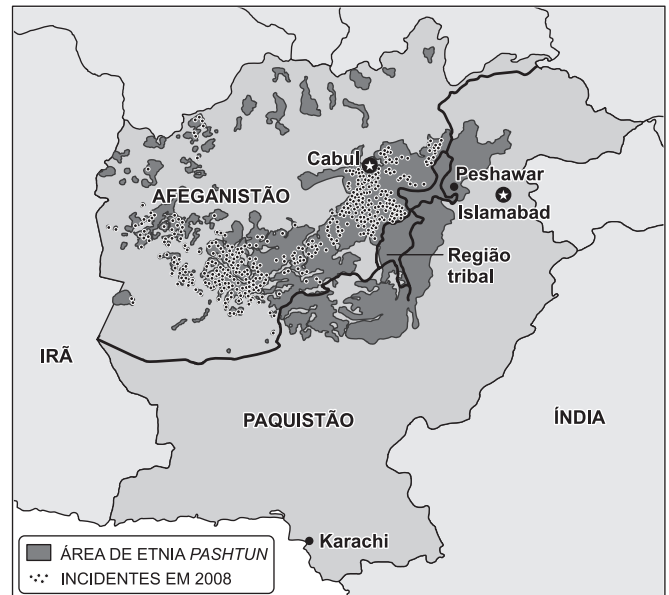
**RESOLUÇÃO:**

**Quanto à assertiva I, nenhuma das regiões mencionadas possui autonomia político-administrativa de fato. No que se refere à assertiva III, nenhuma delas tem reservas de petróleo que se possam considerar de importância. Sobre a assertiva V, no Tibete o movimento separatista é de cunho religioso.**

**Resposta: C**

**Questão 30**

Quanto à área mapeada a seguir, analise as afirmativas que discutem alguns aspectos históricos e geográficos inerentes e assinale a alternativa correta:



(O Estado de S. Paulo, 28/3/2009)

- a) Foi uma região colonizada pela França, tal como o Líbano e a Síria.
- b) Seu relevo plano favorece a ocupação, principalmente do vale do Rio Indo, o que leva a muitos conflitos.
- c) Apresenta um relevo montanhoso, que facilita a permanência de grupos étnicos contrários às forças de ocupação norte-americana no Afeganistão.
- d) Seu ambiente desértico possibilitou aos EUA desmobilizar as forças da Al Qaeda.
- e) Paquistão e Afeganistão são países que sofrem a intervenção das forças da Otan no combate à ação terrorista da Al Qaeda.



Pela análise do texto e das afirmações, podemos inferir que temos hoje

- a) um crescente monopólio dos EUA.
- b) um duopólio mundial.
- c) a multipolaridade dividida entre EUA, China e Japão.
- d) a confirmação da multipolaridade alicerçada no poder dos blocos econômicos.
- e) a volta da economia socialista com o crescente poder do Partido Comunista Chinês.

**RESOLUÇÃO:**

**Os economistas mundiais já falam em um duopólio entre os EUA e a China.**

**Resposta: B**

**Questão 33**

Na Suécia, no início da década de 1990, um colapso financeiro generalizado impôs ao governo a opção radical de estatizar os bancos do país. Os suecos não o fizeram por ideologia, mas unicamente movidos pelo desespero e a necessidade.

Anos depois, com as finanças em ordem, os bancos foram devolvidos à iniciativa privada.

Há pouco (fevereiro de 2009), Muriel Roubini e Matthew Richardson, respeitadas economistas liberais, escreveram um artigo intitulado: “Agora, todos nós somos suecos”.

Esse artigo foi escrito por economistas do primeiro time que recomendam a estatização provisória do sistema financeiro do país:

- a) Arábia Saudita
- b) Rússia
- c) Noruega
- d) EUA
- e) Venezuela

**RESOLUÇÃO:**

**Grandes economistas como Paul Krugman e Joseph Stiglitz propõem que o governo dos EUA assuma totalmente o controle do sistema bancário diante da crise atual.**

**Resposta: D**

**Questão 34**

Leia o texto.

*Há 30 anos, a revolução derrubou a ditadura sangrenta do xá Rhexa Pahlevi, aliado incondicional dos EUA, e conduziu ao poder o aiatolá Khomeini, líder xiita que convocava os islâmicos de todo o mundo a combater as superpotências da época – EUA e URSS. Inaugurava-se uma nova etapa no cenário político internacional que colocava o mundo islâmico no centro do jogo de xadrez planetário.*

Com base na leitura, considere as seguintes afirmações a respeito dessa revolução.

- I. O xá fundamentou seu poder a partir do petróleo e estimulou a entrada de empresas transnacionais, entendendo a adoção de hábitos ocidentais como modernização. Essa ocidentalização acelerada provocou uma forte resistência do clero e as manifestações se generalizaram em 1978.
- II. Expulso e exilado na França, nos anos 70, sob a acusação de tramar a derrubada do xá, Khomeini organizou a resistência à ditadura de Pahlevi por intermédio do clero. Os aiatolás foram fundamentais como força galvanizadora e organizadora do levante, que desestruturou as Forças Armadas.
- III. A revolução não foi feita exclusivamente pelo clero islâmico. Foi fortemente apoiada pela poderosa categoria dos trabalhadores do petróleo e por uma população que vivia em situação miserável e aterrorizada pela ditadura.
- IV. A República Islâmica do Irã nasceu em 1979 e foi governada por Khomeini até 1989; contrariamente ao prognóstico do Ocidente, a morte do líder não trouxe nenhuma instabilidade ao país.

A respeito da revolução abordada, estão corretas as afirmações:

- a) I, II, III e IV.
- b) I e III somente.
- c) II e IV somente.
- d) I e IV somente.
- e) II e III somente.

**RESOLUÇÃO:**

**Todas as afirmações sobre a Revolução Islâmica do Irã são verdadeiras.**

**Resposta: A**

**Questão 35**

*A escassez de água tem criado tensões e conflitos entre países por conta de disputas pelo controle e utilização de fontes de águas superficiais, especialmente rios, quando estes atravessam territórios de duas ou mais nações.*

*Das 260 bacias hidrográficas consideradas internacionais, 75% possuem áreas compartilhadas por dois países e as restantes por grupos de três ou mais países.*

*Um índice que permite estabelecer interessantes conexões geográficas e geopolíticas é o de “dependência de água”. Ele indica a parcela de água renovável de um país, fundamentalmente de rios, vinda de fora de seu território.*

Dessa leitura podemos concluir que um exemplo de país que apresenta dependência hídrica igual a zero é

- a) o Iraque.
- b) Israel.
- c) Bangladesh.
- d) a Argentina.
- e) a Austrália.

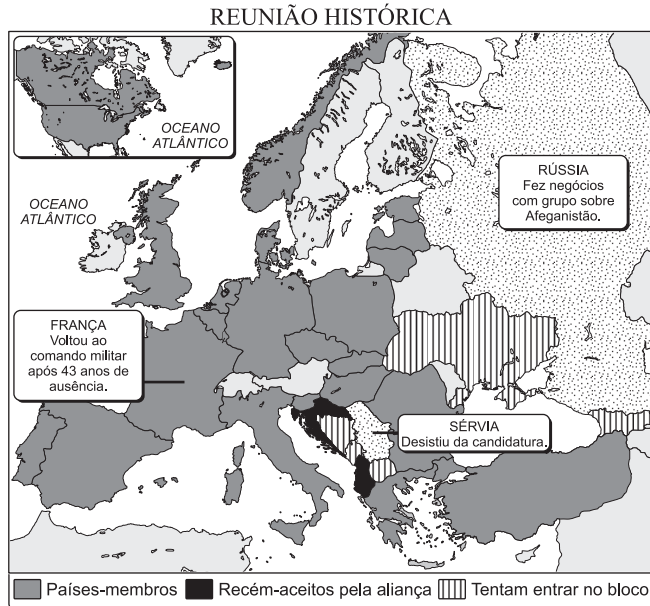
**RESOLUÇÃO:**

**Obviamente são exemplos os países insulares pequenos como os do Caribe, os de média e grande extensão como Madagascar e o de dimensões continentais como a Austrália.**

**Resposta: E**

### Questão 36

Observe o mapa.



(O Estado de S. Paulo, 3 de abril/2009)

- I. Em abril de 2009, a cúpula celebra 60 anos da organização.
- II. O encontro oficializou o retorno dos franceses à estrutura militar integrada da aliança.
- III. A organização está passando por uma reforma de seu conceito estratégico – a diretriz que determina temas geopolíticos delicados, como a expansão da organização.
- IV. A cúpula marca a terceira ampliação para o Leste Europeu, com a incorporação da Albânia e da Croácia como membros.
- V. Um dos temas mais polêmicos da reunião foi a discussão sobre a adesão da Geórgia e da Ucrânia na organização.

Os países assinalados no mapa e as afirmações identificam a

- a) Otan.
- b) ONU.
- c) OMC.
- d) OCDE.
- e) Apec.

#### RESOLUÇÃO:

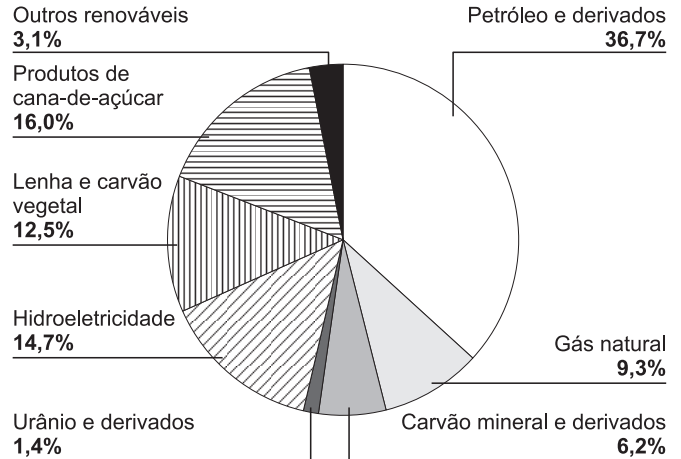
**A Otan (Organização do Tratado do Atlântico Norte) é a única organização militar que temos hoje.**

**Resposta: A**

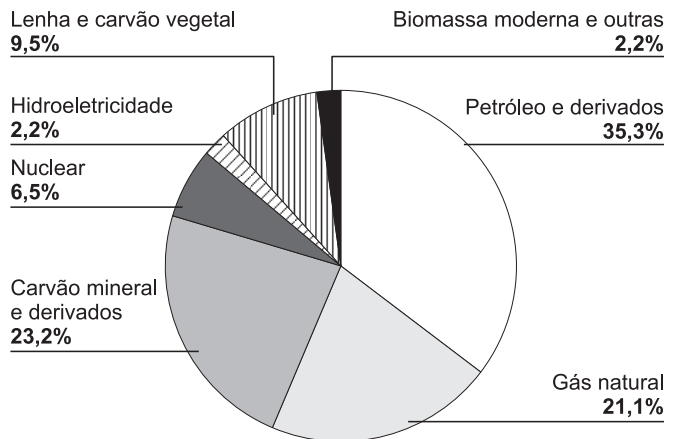
### Questão 37

Comparando-se os gráficos da matriz energética do Brasil e do mundo, pode-se afirmar:

#### MATRIZ ENERGÉTICA BRASILEIRA – 2007



#### MATRIZ ENERGÉTICA MUNDIAL – 2006



(Revista Destaques)

Fonte: Empresa de Pesquisa Energética – EPE e Aneel.

- I. Energias obtidas por fontes renováveis são mais utilizadas no Brasil do que no mundo.
- II. A energia gerada a partir da cana-de-açúcar supera a produzida por hidrelétricas no Brasil.
- III. A crescente utilização do etanol obtido da cana-de-açúcar justifica a liderança entre os renováveis dessa biomassa, tanto no Brasil quanto no mundo.
- IV. As grandes descobertas no pré-sal brasileiro garantem a liderança dos biocombustíveis na matriz energética do Brasil e do mundo.
- V. As fontes de energia não renováveis superam os 70% da matriz energética no Brasil e no mundo.

Estão corretas apenas as afirmações:

- a) I e II.
- b) III e IV.
- c) IV e V.
- d) I e III.
- e) II e V.

**RESOLUÇÃO:**

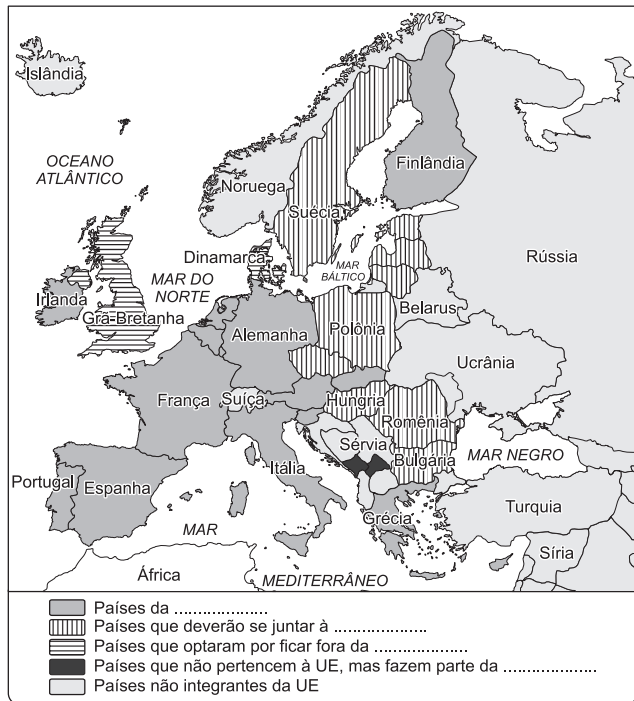
As fontes renováveis correspondem a 46,4% no Brasil e 13,9% no mundo. Os biocombustíveis são representados pelas oleaginosas (biodiesel) e pelo etanol. Os EUA produzem o etanol a partir do milho. Os não renováveis representam 86,1% no mundo e 53,6% no Brasil.

Apenas as alternativas I e II estão corretas.

Resposta: A

**Questão 38**

Atente para este mapa.



(Mundo, abril/2009)

Com base no mapa e em seus conhecimentos, assinale a alternativa que completa corretamente as legendas:

- a) OMC
- b) Zona do Euro
- c) Euratom
- d) CEI
- e) AELC

**RESOLUÇÃO:**

A Zona do Euro está ameaçada pelo avanço da crise no Leste Europeu.

Resposta: B

**Questão 39**

O Fórum Social Mundial nasceu em 2001, num contraponto ao Fórum Econômico de Davos (Suíça), como um espaço de articulação para os movimentos e organizações sociais criarem resistência e alternativas ao modelo da globalização neoliberal. Em sua fundação, foi elaborada uma Carta de Princípios com definições e diretrizes de funcionamento.

Os primeiros foram realizados em Porto Alegre (RS), porque essa cidade praticava experiências sociais.



(www.vnews.com.br/noticia.php?id=42511)

Em 2009, um dos pontos centrais de discussão foi o desenvolvimento baseado em modos de produção insustentáveis que contaminam os ecossistemas, o que justifica a realização deste fórum na cidade de

- a) Londres.
- b) Berlim.
- c) Belém.
- d) Tóquio.
- e) Madri.

**RESOLUÇÃO:**

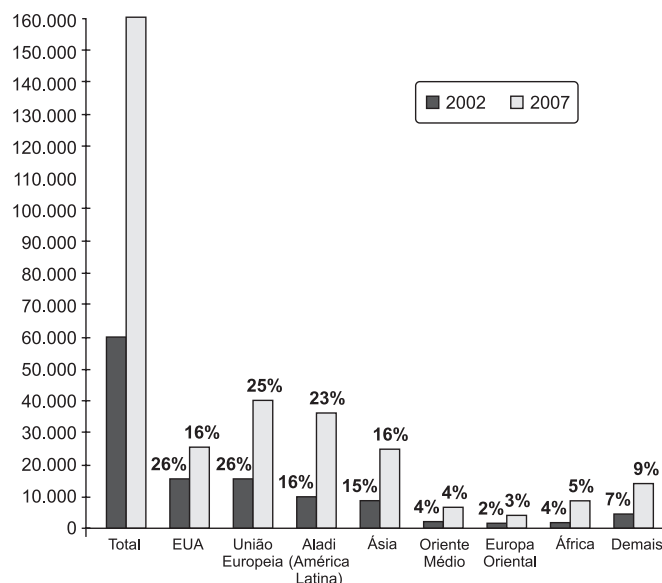
Foi realizado em Belém, no Pará, e estabeleceu que as agendas sociais dos movimentos e organizações devem adotar posições políticas fortes para o mundo.

Resposta: C

**Questão 40**

Analise a evolução das exportações brasileiras.

EVOLUÇÃO DAS EXPORTAÇÕES BRASILEIRAS POR BLOCO ECONÔMICO DE DESTINO (em US\$ milhões FOB e % de cada bloco em relação ao total das exportações)



(Secex/MDIC)

Mediante a observação do gráfico, pode-se afirmar:

- a) As exportações brasileiras para os outros países da América atingem mais de 60% do total.
- b) O país que lidera a importação de produtos brasileiros em valor é a China.
- c) No período destacado, o Brasil aumentou as exportações, manteve parceiros tradicionais como os EUA, outros países latinos e a UE e ampliou o volume de comércio com os asiáticos e africanos.
- d) O maior aumento em valor das exportações ocorreu para os EUA.
- e) Entre os blocos econômicos, a maior participação em porcentagem, em relação ao total das exportações brasileiras, continua sendo a do Mercosul.

**RESOLUÇÃO:**

**As exportações brasileiras para a América não atingem 50%. Conforme o gráfico e o período apresentado, os EUA são o país que mais compra os produtos brasileiros.**

**O bloco da UE é o que teve maior participação nas compras em 2007, enquanto em 2002 se igualou aos EUA.**

**Resposta: C**

**Questão 41**

Leia o poema.


**A excitante fila do feijão**

Larga, poeta, a mesa de escritório,  
esquece a poesia burocrática  
e vai cedinho à fila do feijão.  
Cedinho, eu disse? Vai, mas é de véspera,  
seja noite de estrela ou chuva grossa,  
e sem certeza de trazer dois quilos.  
Certeza não terás, mas esperança  
(que substitui, em qualquer caso, tudo),  
uma espera-esperança de dez horas.  
Dez, doze ou mais: o tempo não importa  
quando aperta o desejo brasileiro  
de ter no prato a preta, amiga vagem.  
Se nada conseguires... tudo bem.  
Esperar é que vale – o povo sabe  
enquanto leva as suas bordoadas.  
Larga, poeta, o verso comedido,  
a paz do teu jardim vocabular,  
e vai sofrer na fila do feijão.

(Carlos Drummond de Andrade)

Observe as fotos a seguir.

## MOVIMENTO DO CUSTO DE VIDA



Duas manifestações do Movimento do Custo de Vida, em 1979.

As manifestações retratadas inserem-se no contexto do regime político brasileiro vigente na década de 1970. Identifique a alternativa que explica a ocorrência dessas manifestações.

- a) A austeridade econômica imposta ao Brasil pelo Fundo Monetário Internacional para combater a inflação implicou a contenção dos salários e o aumento do custo de vida, principalmente em relação ao preço do feijão.
- b) O governo militar brasileiro criou obstáculos à entrada de investimentos estrangeiros, o que contribuiu para a eliminação de postos de trabalho e para a alta do custo de vida.
- c) O chamado “Milagre Brasileiro” realizou-se à custa do arrocho salarial, da concentração de renda, do desemprego e do empobrecimento da maioria da população.
- d) A liberação dos preços dos alimentos contrariou os interesses das empresas multinacionais, as quais defendiam melhores condições de vida para a população de baixa renda, visando incorporá-la ao consumo de bens duráveis.
- e) Organizações populares dos mais diversos setores, como as de estudantes e de trabalhadores, mobilizaram-se intensamente em prol da concretização das “reformas de base”.

**RESOLUÇÃO:**

**O “Milagre Brasileiro” de 1969-73 deixou em sua esteira, além do aumento da concentração de renda e da redução no poder aquisitivo das camadas populares, um processo inflacionário que, no final da década, já havia assumido proporções alarmantes.**

**Resposta: C**

## Questão 42

*Antropofagia foi a deglutição, em 1556, do bispo Sardinha pelos índios caetés.*

(Gilberto Cotrim)

*Antes de os portugueses descobrirem o Brasil, o Brasil tinha descoberto a felicidade.*

(Oswald de Andrade)

*Que diferença enorme existe entre as duas humanidades: uma em explosão, na qual é preciso um aparato, um sistema repressivo para manter a ordem e a paz; outra tranquila, em que o homem é senhor de todos os seus atos. Se um indivíduo der um grito no centro de São Paulo, uma radiopatrulha poderá levá-lo preso. Se um índio der um tremendo berro no meio da aldeia, ninguém olhará para ele, nem irá perguntar por que ele gritou. O índio é um homem livre.*

(Orlando Vilas-Boas. Adaptado.)

Os trechos apresentados suscitam reflexões sobre a ação colonizadora dos portugueses no Brasil. Identifique uma interpretação correta relacionada com essa colonização e com o pensamento dos autores.

- Após a chegada dos portugueses ao Brasil, as sociedades indígenas continuaram a viver em perfeita harmonia com a Natureza e entre si, conforme se pode depreender das palavras de Gilberto Cotrim e de Orlando Vilas-Boas.
- Gilberto Cotrim e Orlando Vilas-Boas confirmam a veneração dos indígenas brasileiros pelos jesuítas, que não pouparam esforços para catequizar os indígenas e impedir que eles fossem escravizados.
- Orlando Vilas-Boas reforça a tese de que o sistema colonial teve caráter repressivo, recorrendo à escravidão negra para manter as nações indígenas livres e acessíveis ao trabalho catequético dos jesuítas.
- O fato descrito por Gilberto Cotrim reforça a ideia de que os índios resistiram à dominação europeia e defenderam, como expressam Oswald de Andrade e Orlando Vilas-Boas, a liberdade de sua organização social.
- Os três autores defendem a tese de que os índios eram desprovidos de organização social e política, já que não possuíam normas institucionais e valores que limitassem seus atos de liberdade.


### RESOLUÇÃO

*Os três autores citados – cada um à sua maneira – defendem a ideia de que a cultura e a liberdade dos indígenas brasileiros representam um contexto sociocultural antagônico àquele que caracteriza a chamada “civilização”.*

**Resposta: D**

## Questão 43

Painel de propaganda política na Itália, 1934:



SI = SIM

(Alceu Luiz Pazzinato e Maria Helena Valente Senise, *História: moderna e contemporânea*)

No contexto histórico italiano de 1934, o painel expressa a mensagem de um partido político que

- defendia os ideais liberais da burguesia italiana, baseados na redução do papel atribuído ao Estado na economia e nas relações trabalhistas.
- se contrapunha à ideologia nacional-socialista, acusando-a de alimentar o conflito entre as classes sociais.
- utilizava os meios de comunicação de massa para valorizar a figura do líder, a grandeza da nação e a preservação da ordem.
- instituiu o corporativismo, que assegurava representatividade eleitoral a patrões e empregados, sob o pretexto de eliminar os conflitos sociais.

Assinale a alternativa correta:

- Somente as afirmações I e II são verdadeiras.
- Somente as afirmações I e III são verdadeiras.
- Somente as afirmações II e III são verdadeiras.
- Somente as afirmações II e IV são verdadeiras.
- Somente as afirmações III e IV são verdadeiras.

### RESOLUÇÃO:

*A questão refere-se ao Partido Fascista, que foi fundado em 1919 e dominou a cena política italiana de 1922 a 1943, sob a ditadura de Benito Mussolini. A afirmação I é falsa porque o caráter totalitário do fascismo implicava a intervenção do Estado em todos os setores da vida econômica e social. A afirmação II é falsa porque o fascismo italiano e o nacional-socialismo (nazismo/fascismo alemão) possuíam a mesma natureza ideológica, ou seja, o totalitarismo de direita.*

**Resposta: E**

**Questão 44****O ISLÃO E O MERCADO****Particularidades do mundo financeiro dos muçulmanos**

**Restrições de investimentos:** limites que indivíduos e bancos devem respeitar nas suas opções de mercado.

**Especulação:** os lucros só terão baraka (bênção divina) se obtidos segundo os preceitos do Corão.

**Juros:** a lucratividade das aplicações deve ser calculada no trabalho, e não na exploração das dificuldades de outro ser humano. Por isso, a usura é vedada.

**Indústria bélica:** negócios relativos a armamentos devem ser restritos à autodefesa.

**“Indústria” do prazer:** segundo o Corão, “bebidas inebriantes e jogos de azar são manobras abomináveis de Santanás” e “Ele [Deus] vedou a carniça, o sangue e a carne de suíno”.

**Produção audiovisual:** entretenimentos que promovam valores contrários aos do Islão, como obscenidades, excessos e violência, não são admitidos.

**Indústria de produtos inebriantes:** para os muçulmanos, o álcool e outras drogas afins não podem ser consumidos, pois o corpo humano deve ser preservado para servir a Deus.

**Outras restrições:** operações financeiras de alto risco não são permitidas.

(Adaptado da Folha de S. Paulo)

De acordo com as informações contidas no texto, podemos concluir que

- o mundo muçulmano, atualmente, se mostra intransigente em relação às práticas capitalistas, considerando-as como obras de Santanás.
- os muçulmanos são proibidos de investir na comercialização de carne suína, na produção de bebidas alcoólicas, no mercado de arte e na indústria de armamentos.
- a lucratividade dos investimentos financeiros feitos por muçulmanos não deve sofrer restrições de ordem ética ou teológica.
- a condenação à reprodução da figura humana continua a vigorar nos países muçulmanos, o que constitui um grande empecilho à propaganda comercial.
- os investimentos financeiros feitos pelos muçulmanos, embora se processem dentro da economia de mercado, estão sujeitos aos preceitos e restrições impostos pela fé islâmica.

**RESOLUÇÃO:**

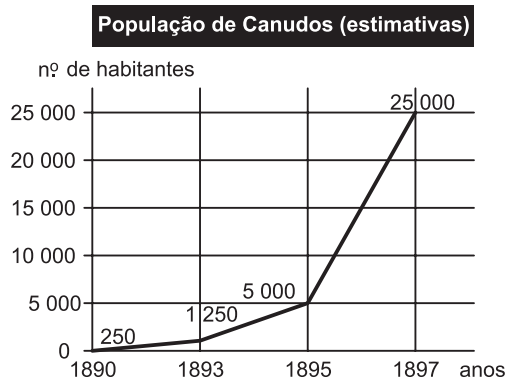
**Em virtude do processo de globalização, o mundo muçulmano está se inserindo na economia de mercado, embora adaptando-a aos princípios da doutrina islâmica.**

**Resposta: E**

**Questão 45**

*Canudos tinha muito apropriadamente, em roda, uma cercadura de montanhas. Era um parêntese; era um hiato; era um vácuo. Não existia. Transposto aquele cordão de serras, ninguém mais pecava (...) Descidas as vertentes em que se entalava aquela furna enorme, podia representar-se lá dentro, obscuramente, um drama sanguinolento da Idade das Cavernas. O cenário era sugestivo. Os atores, de um e de outro lado, negros, caboclos, brancos e mulatos, traziam, intacta nas faces, a caracterização indelével e multiforme das raças – e só podiam unificar-se sobre a base comum dos instintos inferiores e maus.*

(Euclides da Cunha, *Os sertões*. Texto editado.)



(Yara Bandeira de Atayde,

*As origens do povo do Bom Jesus Conselheiro*)

Com base em conhecimentos históricos, no texto de Euclides da Cunha e no gráfico apresentado, identifique as afirmações que contenham justificativas corretas sobre a evolução dos dados do gráfico.

- Em muitas fazendas da região, o trabalho estava desorganizado porque parte das famílias se dispusera a seguir o Conselheiro; alguns pequenos proprietários também vendiam seus bens e partiam para Canudos.
- Acorriam para Canudos os descontentes e os que se sentiam inseguros: artesãos, vaqueiros, migrantes, ex-escravos e numerosos camponeses inconformados com a pobreza e o desamparo.
- Os jagunços de várias regiões do País, atraídos pela pregação do Conselheiro, chegavam em bandos a Canudos e, como não possuíam aptidões para as atividades agropecuárias, viviam do saque praticado nas fazendas vizinhas.
- Os grandes fazendeiros davam abrigo às tropas do governo que marchavam contra Canudos, fornecendo-lhes animais de carga, gado e cereais para sua alimentação.

É correto apenas o que se apresenta nas afirmações

- I e II.
- I e III.
- II e III.
- II e IV.
- III e IV.


**RESOLUÇÃO:**

A afirmação III é incorreta porque os “jagunços” de Canudos, embora muitas vezes tivessem um passado de crimes, submetiam-se à autoridade moral do Conselheiro e se dedicavam às atividades próprias da comunidade sertaneja. A afirmação IV é falsa porque a logística das tropas enviadas contra o arraial era organizada pelos próprios militares.

Resposta: A

**Questão 46**

**Frank & Ernest – Bob Thaves**



**CHICLETE COM BANANA – ANGELI**



As tiras fazem menção


- a) à ideologia anarquista, que negava a existência do Estado, e ao atual esforço de certos intelectuais para revitalizar as utopias revolucionárias dos séculos anteriores.
- b) ao socialismo científico, que mobilizou milhões de pessoas nos séculos XIX e XX, e à atual descrença nas utopias sociais e políticas que nortearam os revolucionários daquele período.
- c) ao socialismo utópico do século XIX e àqueles que, em pleno século XXI, tentam reinventá-lo em oposição ao neoliberalismo triunfante.
- d) à adaptação da ideologia marxista a novas áreas do conhecimento, como a Ecologia e a Engenharia Genética.
- e) à retomada da ideologia marxista em novas bases, compatíveis com os avanços do conhecimento científico registrados nas últimas décadas.

**RESOLUÇÃO:**

Após o colapso do socialismo real, cujo fato emblemático foi a desintegração da própria “Pátria do Socialismo” – a URSS –, a maioria dos pensadores de esquerda passou a vivenciar um vácuo ideológico, tendo em vista a perda de credibilidade das utopias que mobilizaram líderes políticos e também as massas ao longo dos séculos XIX e XX.

Resposta: B

**Questão 47**



O Nascimento de Vênus—Botticelli



Katty Perry



Susan Boyle

Observando as imagens apresentadas e utilizando conhecimentos de História da Arte, podemos concluir que

- a) a beleza feminina, quando associada à produção artística, apresenta menor relevância que seus dotes interiores; o recente sucesso da cantora Susan Boyle confirma essa interpretação.
- b) a representação artística da figura feminina sempre obedeceu a padrões realistas, mas pode vir a ser valorizada justamente pelo antagonismo com os conceitos estéticos vigentes.
- c) o choque causado pela imagem da cantora Susan Boyle mostra que a idealização da beleza feminina tem sido uma constante, até mesmo na cultura *pop*.
- d) os padrões estéticos tradicionais para a beleza feminina são aceitos até mesmo pela cultura *underground*, que rejeita imagens pouco convencionais como a da cantora Susan Boyle.
- e) o mundo do espetáculo, nos dias de hoje, valoriza a beleza física de forma tão exacerbada que inviabiliza o sucesso de pessoas cuja imagem não corresponda aos padrões estéticos correntes.

**RESOLUÇÃO:**

*De um modo geral, a beleza física – sobretudo a feminina – tem sido a base da produção artística ao longo da História, como se pode observar no Período Clássico, no Renascimento e mesmo nos dias de hoje. A chamada “boa aparência” define, em nossa sociedade, o papel que as pessoas podem ou não representar. Esse conceito vale também para o show business, mas pode ser subvertido quando ocorre a valorização justamente de imagens contrárias aos padrões aceitos.*  
**Resposta: C**

**Questão 48**



DOIS BONS CAMARADAS

A charge, de autoria do cartunista brasileiro Belmonte, mostra que o pacto de não agressão entre Hitler e Stalin, firmado às vésperas da Segunda Guerra Mundial,

- a) tinha por objetivo estabelecer uma paz duradoura entre os dois ditadores, apesar de suas divergências ideológicas.

- b) constituía um recurso dos dois ditadores para protelar um conflito que se afigurava inevitável entre a Alemanha e a URSS.
- c) visava estabelecer uma aliança entre os totalitarismos de esquerda e de direita para fazer frente ao expansionismo das potências democráticas.
- d) foi utilizado por Stalin para retirar a União Soviética do isolamento que lhe fora imposto pela “Política do Cordão Sanitário”, criada pelas potências ocidentais.
- e) foi estendido mais tarde ao Japão e aos Estados Unidos, o que retardou a participação desses países no conflito iniciado em 1939.

**RESOLUÇÃO:**

**O Pacto Molotov–Ribbentrop, que assegurava a paz entre a Alemanha e a URSS pelos próximos 5 anos, não foi compreendido, na ocasião, pela maioria dos analistas. O cartunista Belmonte, no entanto, percebeu claramente o espírito oportunista que norteou a elaboração daquele acordo: Hitler, prestes a atacar a Polônia, garantia para si a neutralidade e até mesmo a cumplicidade de Stalin; este, por sua vez, afastaria temporariamente a ameaça de uma agressão alemã e ainda anexaria territórios vizinhos à URSS.**

**Resposta: B**

**Questão 49**

*O que aconteceria se, um dia ou uma noite, um demônio se esgueirasse furtivamente na mais solitária das tuas solidões e te dissesse: “Esta vida, assim como a vives agora e a vivestes, terás de vivê-la novamente infinitas vezes e nela não haverá nada de novo, mas retornarão a ti cada dor e cada prazer, cada pensamento e suspiro, cada coisa indizivelmente pequena ou grande da tua vida, e tudo na mesma sequência e sucessão, como esta aranha e este luar por entre os ramos e também este instante e eu mesmo. A eterna ampulheta da existência será novamente virada e tu com ela, grão de poeira!”*

*Não te lançarias ao chão, rangendo os dentes e maldizendo o demônio que assim te falou? Ou então, talvez tendo vivido alguma vez um instante tão imenso, seria esta a tua resposta: “Tu és um Deus e nunca ouvi nada tão divino?”*

*Se esse pensamento ganhasse poder sobre ti, assim como és agora, ele te faria sofrer uma metamorfose e talvez te triturasse. A pergunta para qualquer coisa – “Queres isso mais uma vez e ainda inúmeras vezes?” – pesaria sobre o teu modo de agir como o maior dos pesos! Ou, então, quanto terias que amar a ti mesmo e à vida, para não desejar nada mais que esta última e eterna confirmação, esta chancela?...*

(Nietzsche)

De acordo com o texto de Nietzsche,

- a) é impossível conceber o tempo numa estrutura cíclica.
- b) a perda do sentido linear do tempo comportaria uma revolução na psicologia humana.

- c) o homem coerente e feliz não aceita a ideia ou o mito do eterno retorno.
- d) o mito do eterno retorno pode tornar a vida mais penosa e infeliz.
- e) cada ser humano percebe o tempo à sua maneira.

**RESOLUÇÃO:**

**O texto de Nietzsche é uma provocação aos homens que vivem mediocrementemente. Para esse filósofo, o homem ordinário foge assustado da ideia do eterno retorno e o Super-Homem (conceito da filosofia de Nietzsche) aceita-a com alegria. Nietzsche é o filósofo que proclama a arte de viver livre.**

**Resposta: B**

**Questão 50**

*Outro ponto é que o conhecimento entendido como força de ação se torna cada vez mais responsável pelo processo de formação das desigualdades. Para alguns cientistas sociais, as classes sociais não constituem mais a formação das hierarquias, mas sim outros tipos de clivagens sociais. Uma ilustração disso é que, na Sociedade da Informação, os indivíduos ativos no processo de trabalho industrial representam uma minoria no conjunto da população.*

(Marco Bourguignon)

O texto aponta mudanças sociais, particularmente

- a) a passagem da sociedade industrial prática para a sociedade do conhecimento e da informação. Contudo, a estrutura de uma sociedade mundial marcada por grandes desigualdades permanece. Mudou a dinâmica da reprodução das desigualdades. Trata-se de uma mudança que tem por objetivo a conservação.
- b) a passagem da sociedade industrial para a sociedade da informática, o que possibilita a renovação social com base na diluição das desigualdades e o acesso democrático aos saberes por parte das classes desfavorecidas.
- c) a passagem de uma sociedade de classes para uma sociedade que socializou os meios de produção, estendendo o acesso à informação e ampliando o programa democrático de ensino.
- d) a passagem da sociedade industrial para a sociedade do conhecimento, o que extinguiu as classes sociais. A nova sociedade marca a era da Internet e da globalização, em que a informação se tornou o caminho para a superação das mazelas sociais.
- e) a passagem da sociedade industrial para a sociedade da informação e conhecimento, que está diminuindo a distância entre países ricos e pobres, já que os ricos divulgam e transferem tecnologias globalizadas.

**RESOLUÇÃO:**

**O texto faz, de fato, referência às mudanças na economia moderna, em que a detenção dos processos do conhecimento se tornou um novo instrumento de reprodução das desigualdades e o conhecimento não é democratizado efetivamente.**

**Resposta: A**

